

O-2



T.C.

MİLLÎ EĞİTİM BAKANLIĞI
ÖLÇME, DEĞERLENDİRME VE SINAV HİZMETLERİ
GENEL MÜDÜRLÜĞÜ

T

AÇIK ÖĞRETİM ORTAOKULU
2013-2014 ÖĞRETİM YILI 3. DÖNEM SINAVI
2. OTURUM: 15 HAZİRAN 2014 Saat: 14.00

<u>DERSLER</u>	<u>SAYFA</u>	<u>DERSLER</u>	<u>SAYFA</u>
(504) SOSYAL BİLGİLER – 5	2	(704) SOSYAL BİLGİLER – 7	17
(507) İNGİLİZCE – 5	4	(707) İNGİLİZCE – 7	19
(507) ALMANCA – 5	5	(707) ALMANCA – 7	20
(507) FRANSIZCA – 5	7	(707) FRANSIZCA – 7	22
(508) DİN KÜL. VE AHLAK BİLGİSİ – 5	9	(708) DİN KÜL. VE AHLAK BİLGİSİ – 7	23
(601) TÜRKÇE – 6	11	(801) TÜRKÇE – 8	25
(602) MATEMATİK – 6	13	(802) MATEMATİK – 8	26
(603) FEN VE TEKNOLOJİ – 6	15	(803) FEN VE TEKNOLOJİ – 8	29

ADAYLARIN DİKKATİNE!

- Her ders için **20** soru bulunmaktadır. Bu oturumda **150** dakikalık cevaplama süreniz vardır. Sınav başladıktan sonra ilk **30** dakika dolmadan dışarı çıkmayınız.
- Sınav sırasında sözlük, hesap cetveli veya makinesi, çağrı cihazı, cep telefonu, telsiz, radyo gibi elektronik iletişim araçlarını yanınızda bulundurmuyunuz. Bu araçları kullanmanız ve kopya çekmeye teşebbüs etmeniz hâlinde sınavınız geçersiz sayılacaktır.
- Başvuru şartlarını taşımadığınız hâlde sınava girmeniz, kopya çekmeniz, başka adayın sınav evrakını kullanmanız, geçerli kimlik belgenizi ve sınav giriş belgenizi ibraz edemediğiniz durumlarda sınavınız geçersiz sayılacaktır.
- Sınavın değerlendirilmesi aşamasında, bilgisayar ortamında yapılan kopya analizinde ikili veya toplu kopya tespiti hâlinde sınavınız geçersiz sayılacaktır.

CEVAP KÂĞIDI VE SORU KİTAPÇIĞI İLE İLGİLİ AÇIKLAMALAR

- Cevap kâğıdınızdaki bilgilerin doğruluğunu kontrol ediniz ve cevap kâğıdınızı mürekkepli kalemle imzalayınız.
- Cevap kâğıdı üzerinde kodlamalarınızı kurşun kalemle yapınız.
- Değiştirmek istediğiniz bir cevabı, yumuşak silgiyle cevap kâğıdını örselemeden temizce siliniz ve yeni cevabınızı kodlayınız.
- Soru kitapçığının sayfalarını kontrol ediniz, baskı hatası var ise değiştirilmesini sağlayınız.
- Soruların çözümü için size ayrıca boş kâğıt verilmeyecektir. Soru kitapçığının içindeki boş alanları soru çözümleri için kullanabilirsiniz.
- Her sorunun dört seçeneğinden sadece biri doğrudur. Doğru seçeneği, cevap kâğıdınızın ilgili sütununa soru numarasını dikkate alarak yuvarlağın dışına taşırmadan kodlayınız. **Soru kitapçığı üzerinde yapılan cevaplandırmalar dikkate alınmayacaktır.**
- Cevaplamaya istediğiniz dersin sorusundan başlayabilirsiniz. Cevabını bilmediğiniz sorular üzerinde fazla zaman kaybetmeden diğer sorulara geçiniz. Zamanınız kalırsa bu sorulara daha sonra dönebilirsiniz.
- Yanlış cevaplarınız dikkate alınmadan sadece doğru cevaplarınız üzerinden puanlama yapılacaktır.
- Soruları ve sorulara verdiğiniz cevapları, yanınızda götürmek amacıyla kaydetmeyiniz; hiçbir şekilde dışarı çıkarmayınız.
- Sınav bitiminde, soru kitapçığı ve cevap kâğıdını salon görevlilerine teslim ediniz.**

BAŞLAYINIZ DENİLMEYEN SORU KİTAPÇIĞINI AÇMAYINIZ.

2. OTURUM

(504) SOSYAL BİLGİLER – 5

1. Aşağıda verilenlerden hangisi ilkökul öğrencisi Aylin'in, haklarından biridir?

- A) Sabah kalktığında yatağını toplamak.
- B) Kahvaltıdan sonra dişlerini fırçalamak.
- C) Okuldan eve geldikten sonra oyun oynamak.
- D) Okul bahçesinin temiz olması için özen göstermek.

2. Belirli düşüncelerin, bireyler arasındaki ilişkilerin ve karşılıklı görevlerin oluşturduğu; genellikle devletle ilişkisi olan toplumsal örgütlenmelere diyoruz.

Verilen cümledeki boşluğa aşağıdakilerden hangisi yazılmalıdır?

- A) Birey B) Kurum C) Grup D) Meslek

3. Aşağıdakilerden hangisi ülkemizde bulunan tarihî mekanlardan biridir?

- A) Pamukkale B) Peribacaları
- C) Efes Antik Kenti D) Manyas Kuş Cenneti

4.

Toplu bir milleti istila etmek, darmadağın bir milleti istila etmek gibi kolay değildir.



Atatürk bu sözü ile aşağıdakilerin hangisinin önemini vurgulamak istemiş olabilir?

- A) Bağımsızlığın
- B) Millî kültürün
- C) İktisadi gücün
- D) Ulusal birlik ve beraberliğin

5. Aşağıdaki yeniliklerden hangisi devletçilik ilkesiyle ilişkilendirilebilir?

- A) Tekke ve zaviyelerin kapatılması
- B) Sümerbankın kurulması
- C) Cumhuriyet'in ilan edilmesi
- D) Saltanatın kaldırılması

6. Victoria (Viktorya) Şelaleleri aşağıdaki hangi iki ülkenin sınırları arasında yer alır?

- A) Zambiya - Zimbabve
- B) Kenya - Tanzanya
- C) Mali - Nijer
- D) Libya - Mısır

7.

Çocuklar! Çevremizi korumak için alınabilecek tedbirler nelerdir?



Öğretmenin bu sorusuna aşağıdaki öğrencilerden hangisi yanlış cevap vermiş olabilir?

- Arif : Doğal kaynakların kirlenmesini önlemeliyiz.
- Murat : Tarımda bilinçsiz sulamaya son vermemeliyiz.
- Çiğdem : Çöplerin doğaya ve suya karışmasını engellemeliyiz.
- Ebru : Cam, plastik, kâğıt gibi çöpleri evsel atıklara atmalıyız.

- A) Arif B) Murat C) Çiğdem D) Ebru

8. Hatay, Adana, Osmaniye gibi illerde görülen iklim tipi aşağıdakilerden hangisidir?

- A) Tundra B) Karasal
- C) Akdeniz D) Karadeniz

9. "Çay üretimi bizim başlıca geçim kaynağımızdır." diyen bir kişi, aşağıdaki bölgelerin hangisinde yaşıyor olabilir?

- A) Ege'de B) Karadeniz'de
- C) Marmara'da D) Akdeniz'de

10. Aşağıdaki illerden hangisi Güneydoğu Anadolu Bölgesi içinde yer alır?

- A) Adıyaman B) Malatya
- C) Elazığ D) Muş

2. OTURUM

11. Aşağıdakilerden hangisi bilim adamına ait özelliklerden biri değildir?

- A) Meraklı kişilik
- B) Ön yargılı yaklaşım
- C) Sorgulayıcı anlayış
- D) Yüksek öz güven

12. 1876 yılında, sesi teller aracılığıyla ileterek telefonu icat eden kişi, aşağıdakilerden hangisidir?

- A) Marie Curie
- B) Samuel Morse
- C) John Logie Baird
- D) Alexander Graham Bell

13. Türkiye Cumhuriyeti'nin, yabancı devletlerle ve uluslararası kuruluşlarla ilişkilerini yürütür.

Bu görev aşağıdaki bakanlıklardan hangisine aittir?

- A) Dışişleri Bakanlığına
- B) İçişleri Bakanlığına
- C) Avrupa Birliği Bakanlığına
- D) Milli Savunma Bakanlığına

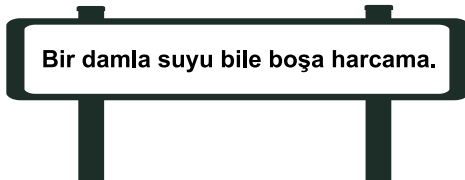
14. Ormanların aşağıdaki faydalarından hangisi, toprakların aşındırılmasını ve taşınmasını engelleyen bir faktördür?

- A) Oksijen üretmesi
- B) İklimi düzenlemesi
- C) Erozyonu önlemesi
- D) Turizmi canlandırması

15. Ülkemizde yasa yapma görevi aşağıdakilerden hangisine aittir?

- A) TBMM'ye
- B) Cumhurbaşkanına
- C) Bakanlar Kuruluna
- D) Bağımsız mahkemelere

16.



Bu tabela, aşağıdaki sivil toplum kuruluşlarından hangisinin çalışma alanıyla yakından ilgilidir?

- A) LÖSEV
- B) TEMA
- C) KIZILAY
- D) DARÜŞŞAFKA

17. Aşağıdakilerden hangisi Türkiye Cumhuriyeti Devleti'nin anayasasında yer alan ve değiştirilmesi teklif dahi edilemeyen maddelerinden biri değildir?

- A) Başkenti
- B) Millî Marşı
- C) Siyasi Politikası
- D) Devletin Yönetim Şekli

18. I- İstiklal Marşı'nın kabulü
II- Medeni Kanun'un kabulü
III- Soyadı Kanunu'nun kabulü

Verilen olayların kronolojik sırası aşağıdakilerden hangisidir?

- A) I - II - III
- B) II - I - III
- C) III - I - II
- D) I - III - II

19. Aşağıda verilen eser-ülke eşleştirmelerinden hangisi doğrudur?

- A) Pisa Kulesi - Meksika
- B) Sydney Opera Evi - Zambiya
- C) Kukul Kaan Piramidi - Mısır
- D) Orhun Yazıtları - Moğolistan

20.



Görselde "X" ile gösterilen yeryüzü şekli aşağıdakilerden hangisidir?

- A) Plato
- B) Ova
- C) Vadi
- D) Dağ

2. OTURUM

(507) İNGİLİZCE – 5

1 - 17. sorularda boş bırakılan yere uygun gelen kelime ya da ifadeyi işaretleyiniz.

1. I think playing hangman is I don't like it.

- A) enjoyable B) easy
C) boring D) fun

2. You buy books from a

- A) chemist's B) post office
C) hospital D) bookshop

3. You can see a whale

- A) on the farm B) in the sea
C) in the park D) at home

4. I a lot. I have a runny nose. I have the flu.

- A) sleep B) swallow
C) hurt D) sneeze

5. I don't like horror films. They're

- A) frightening B) pleasant
C) funny D) interesting

6. The monkeys are bananas.

- A) running B) fixing
C) eating D) studying

7. I'm the rabbit. It's hungry.

- A) bathing B) brushing
C) cleaning D) feeding

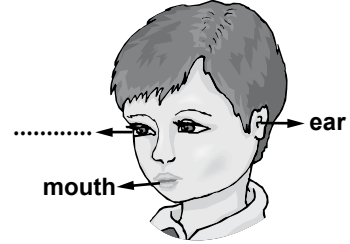
8. I TV after dinner.

- A) have B) watch
C) do D) go

9. Ayşe has a toothache. She should

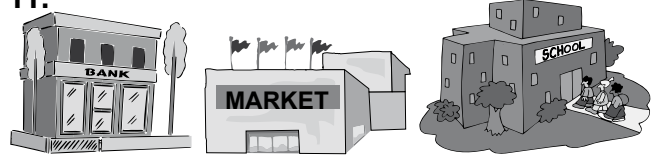
- A) take a cough syrup B) wear thick clothes
C) have hot drinks D) see a dentist

10.



- A) eye B) knee C) finger D) hand

11.



The market is the school and the bank.

- A) on the right B) between
C) next to D) opposite

12. This is a picture of



- A) fishing B) hiking
C) tennis D) camping

13. I'm Kin. I'm interested in Art.

- A) I like drawing and painting.
B) My hobby is playing chess.
C) I love playing basketball and tennis.
D) I play backgammon with my sister.

14. A:

B: Toast and cheese.

- A) How do you go to work?
B) What time do you wake up?
C) What do you have for breakfast?
D) What do you do at the weekends?

2. OTURUM

15. A: Do you want to come to my birthday party on Saturday?

B: Thanks, but

- A) that sounds really fun.
- B) of course. It's a good idea.
- C) sure. Thank you for inviting.
- D) I have another appointment.

16. A: Can I help you?

B:

A: Pink Panther and Toy Story.

- A) See you there.
- B) That's all right.
- C) What's on tonight?
- D) When is the film on?

17. A: I don't want to see the lions. I'm afraid of them.

B: Look! They are sleeping in their cage.

- A) Don't worry.
- B) Ok, let's go.
- C) How nice!
- D) It's sunny.

18-19. soruları aşağıdaki tabloya göre cevaplayınız.

Name	Amy
Country	Australia
Age	14
Language	German & English
Favourite lesson	Maths & Science

18. Amy is

- A) German
- B) Australian
- C) French
- D) English

19. Amy's favourite lessons are

- A) English and Maths
- B) Maths and German
- C) Music and English
- D) Maths and Science

20. What is the time?



- A) It's one o'clock.
- B) It's half past one.
- C) It's twenty to one.
- D) It's a quarter past one.

(507) ALMANCA – 5

1 - 15. sorularda boş bırakılan yere uygun gelen kelime ya da ifadeyi işaretleyiniz.

1. Am Wochenende ich im Kino.

Jetzt ich in der Schule.

- A) waren /sein
- B) wart / bist
- C) war / bin
- D) warst / bin

2. Im Sommer wir immer Sonne.

- A) war
- B) hatten
- C) hat
- D) warst

3. Die von der Türkei ist Ankara.

- A) Hauptstadt
- B) Türkisch
- C) Land
- D) Sprache

4. Denise kommt aus Deutschland. Sie Deutsch.

- A) spreche
- B) sprichst
- C) sprechen
- D) spricht

5. Wir trinken in der Pause,, und

- A) Milch / Banane / Kuchen
- B) Cola / Mineralwasser / Torte
- C) Limonade / Tee / Cola
- D) Hamburger / Popcorn / Joghurt

6. Ich esse gern, und

- A) Tee / Cola / Toast
- B) Müsli / Milch / Hamburger
- C) Birne / Banane / Kaffee
- D) Käsebrot / Apfel / Wurst

2. OTURUM

7. In der Bibliothek kann man

- A) Bücher lesen B) spielen
C) Briefe abschicken D) Tiere sehen

8. Die Schüler sind Zoo.

- A) am B) in der C) im D) auf dem

9. Miriam hat am (09. 01) Geburtstag.

- A) achtzehnte Mai B) zwanzigsten Juli
C) neunten Januar D) vierten März

10. Um 07.00 Uhr Güliz

- A) steht / auf B) auf / stehen
C) stehen / auf D) stehst / auf

11. In den Ferien fliege ich mit meinen (Vater+Mutter) nach Italien.

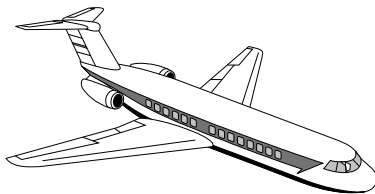
- A) Schwester B) Eltern
C) Freunde D) Bruder

12. Ihre Haare sind und



- A) groß / grün B) lang / lockig
C) rund / lang D) lockig / kurz

13. Das ist



- A) ein Taxi B) ein Schulbus
C) ein Flugzeug D) eine U-Bahn

14. Es ist Uhr.



- A) Viertel vor zehn B) Viertel nach zehn
C) zehn vor zwölf D) zehn nach drei

15. Die Katze ist der Tür.



- A) zwischen
B) auf
C) über
D) hinter

16.



Resme göre hava durumu hangi seçenekte doğru olarak tanımlanmıştır?

- A) Es ist kalt. B) Es ist warm.
C) Es ist regnerisch. D) Es ist sonnig.

17. Karışık halde verilmiş olan diyalogun anlamlı olarak sıralandığı seçenek hangisidir?

I- Ich habe Fußschmerzen. Mir tut mein Fuß weh.

II- Gute Besserung.

III- Was hast du denn?

- A) III / II / I B) II / I / III
C) I / III / II D) III / I / II

18. Karışık halde verilmiş olan sözcüklerle kurallı bir cümle oluşturunuz.

im Sommer / wir / dieses Jahr / Was / machen?

1 2 3 4 5

- A) 1 / 2 / 3 / 5 / 4 B) 4 / 2 / 1 / 5 / 3
C) 5 / 2 / 1 / 3 / 4 D) 4 / 5 / 2 / 3 / 1

2. OTURUM

19 - 20. soruları verilen metne göre cevaplayınız.

Liebe Anja,

Wir haben eine neue in der Klasse. Sie heißt Miriam. Sie ist sehr freundlich und lieb. Ihre Hobbys sind schwimmen und singen. Am Wochenende kommt sie zu mir. Hast du auch Lust?

Bis bald
Eva

19. Wie ist Miriam?

- A) Sehr höflich. B) Freundlich und lieb.
C) Faul und sportlich. D) Intelligent.

20. Was sind Miriams Hobbys?

- A) Schwimmen und singen.
B) Basketball spielen.
C) Gitarre spielen.
D) Schwimmen.

(507) FRANSIZCA – 5

1 - 16. sorularda boş bırakılan yere uygun gelen kelime ya da ifadeyi işaretleyiniz.

1. aimes la glace?

- A) Je B) Tu C) Nous D) Elles

2. Selin et Martin en retard!

- A) est B) sommes
C) ont D) sont

3. Marie beaucoup.

- A) travaille B) travailles
C) travaillez D) travaillent

4. Elles sont

- A) intelligent B) intelligentes
C) intelligents D) intelligents

5. J'aime chemise.

- A) cet B) ces C) cette D) ce

6. est le quatrième jour de la semaine.

- A) Vendredi B) Jeudi
C) Samedi D) Mercredi

7. Tu les dents?

- A) se brosse B) me brosse
C) te brosse D) vous brossez

8. Ankara est une ville dans de la Turquie.

- A) le sud B) le nord C) l'est D) le centre

9. Je vais chez le médecin parce que j'ai mal à la

- A) pied B) dents C) oreilles D) tête

10. Il invite tante et oncle.

- A) son / leur B) sa / son
C) ses / son D) son / sa

11. Jacques et Martin viennent théâtre.

- A) du B) à la C) en D) aux

12. Le mois de septembre, c'est

- A) en été B) en hiver
C) au printemps D) en automne

13. Pour acheter de la viande, je vais

- A) au café B) à la boucherie
C) à la pharmacie D) à la pâtisserie

14. Pierre est médecin, il travaille dans

- A) une ferme B) un restaurant
C) un hôpital D) une école

2. OTURUM

15. Elle a les yeux et les cheveux noirs.

- A) verts B) vertes C) verte D) vert

16. A :?

B : Je fais du 35.

- A) Ça va
B) Quelle est ta pointure
C) Ça fait combien
D) Quel âge as-tu


17 - 20. soruları resimleri dikkate alarak cevaplayınız.

17.



- A) Sortez votre cahier!
B) Baissez la main!
C) Regardez le dessin!
D) Répétez!

18. Quelle heure est-il?



- A) Il est neuf heures et demie.
B) Il est neuf heures.
C) Il est neuf heures et quart.
D) Il est neuf heures moins le quart.

19. Aujourd'hui il fait beau.

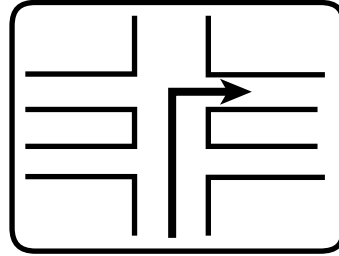


Demain,



- A) il va pleuvoir B) il va neiger
C) il va faire du soleil D) il va geler

20.



- A) Prenez la deuxième rue à droite.
B) Allez tout droit.
C) Prenez la première rue à droite.
D) Prenez la deuxième rue à gauche.

2. OTURUM

(508) DİN KÜL. VE AHLAK BİLGİSİ – 5

1. “... De ki: Hiç bilenlerle bilmeyenler bir olur mu? Ancak akıl sahipleri bunu düşünüp anlar.”

Bu ayetin konusu aşağıdakilerden hangisidir?

- A) İnsan onuru
- B) Bilginin değeri
- C) Toplumsal barış
- D) Allah'ın bilgisi

2. “Biz göğü, yeri ve ikisi arasındakileri boş yere yaratmadık...”

(Sâd suresi, 27. ayet)

Bu ayetten çıkarılacak asıl mesaj aşağıdakilerden hangisidir?

- A) Her varlığın bir yaratılış amacının olduğu
- B) Gök cisimlerinin düzenli hareket ettiği
- C) Her şeyin yaratıcısının Allah olduğu
- D) Bütün varlıkların insana hizmet ettiği

3. İhlas suresinin ilk ayeti “Kul huvallûhu ehad”ın anlamı aşağıdakilerden hangisidir?

- A) Allah, hiçbir şeye muhtaç değildir.
- B) Hiçbir şey ona denk ve benzer değildir.
- C) Allah doğurmamış ve doğmamıştır.
- D) De ki: O, Allah tektir.

4. Küçük bir tebessüm, içten bir selam,
Dosta hatır soran, bir iki kelam,
Kısaca diyor ki insana İslam,
İhlasla yaptığın, her şey ibadet
Cengiz Numanoğlu

Bu şiirin ana fikri aşağıdakilerden hangisidir?

- A) Kişinin Allah'a sevgi ve saygı duyması gerektiği
- B) Yardımlaşma ve dayanışmanın topluma birçok fayda sağladığı
- C) Müslümanın samimi olarak yaptığı her tür davranışın ibadet olduğu
- D) Allah'ın nimetlerinden dolayı şükretmek gerektiği

5. Camide cuma ve bayram namazlarında imamın hutbe okumak için çıktığı merdivenli yüksekçe yere ne denir?

- A) Kürsü B) Minber C) Mihrap D) Minare

6. Aşağıdaki ayetlerden hangisi bir dua cümlesi değildir?

- A) “Rabb'imiz! Bize dünyada ve ahirette iyilik ver! ...”
(Bakara suresi, 201. ayet)
- B) “Rabb'im! Beni ve soyumdan geleceklere namazı devamlı kılanlardan eyle!”
(İbrahim suresi, 40. ayet)
- C) “Rabb'imiz! Hesabın görüleceği gün beni, ana-babamı ve bütün müminleri bağışla!”
(İbrahim suresi, 41. ayet)
- D) “... Rabbimiz biliyor ki biz gerçekten size gönderilmiş elçileriz”
(Yasin suresi, 16. ayet)

7. İbadetler, yalnızca Allah'ın hoşnutluğunu kazanmak için yapılır. Bu yüzden insanın, Rabb'ine ibadet etmeye ve onun rızasını kazanmaya çalışması gerekir.

Bu açıklamalar aşağıdaki ayetlerden hangisiyle örtüşmez?

- A) “Ey insanlar! Sizi ve sizden öncekileri yaratan Rabb'inize kulluk ediniz...”
(Bakara suresi, 21. ayet)
- B) “... İnsanları ancak bana kulluk etsinler diye yarattım.”
(Zariyat suresi, 56. ayet)
- C) “Mutlak hükümler elinde olan Allah, yüceler yücesidir ve onun herşeye gücü yeter.”
(Mülk suresi, 1. ayet)
- D) “Yalnız sana ibadet ederiz ve yalnız senden yardım dileriz.”
(Fatiha suresi, 5. ayet)

8. Peygamberimizin Hz. Hatice'den kaç çocuğu dünyaya gelmiştir?

- A) 3 B) 5 C) 6 D) 9

2. OTURUM

9. Peygamberimiz kızlarını evlendirirken onların görüşlerini almış ve istekleri doğrultusunda hareket etmiştir.

Peygamberimizin bu davranışı onun hangi yönünü öne çıkarmaktadır?

- A) Danışarak iş yapmasını
- B) Şefkat ve merhametini
- C) Sabırlı oluşunu
- D) Hoşgörüsünü

10. Peygamberimiz namaz kılarken secdeye vardığında torunları Hasan ve Hüseyin sırtına binince secdeyi uzattı. Oradakiler, “Ya Rasulallah! Secdeyi uzatmış olmadınız mı?” dediler. Peygamberimiz de: “Onlar sırtıma binince acele etmekten çekindim.” şeklinde cevap verdi.

Peygamberimizin bu davranışı onun hangi yönüne örnektir?

- A) Adaletli oluşuna
- B) Şefkat ve merhametine
- C) Cesaretli oluşuna
- D) Kararlılığına

11. “*Yiyiniz, içiniz; ancak etmeyiniz. Bilin ki Allah edenleri sevmez.*”
(Araf suresi, 31. ayet)

Bu ayette boş bırakılan yerlere aşağıdakilerden hangisi gelmelidir?

- A) Zulüm
- B) İsrâf
- C) Beddua
- D) Cimrilik

12. Peygamberimizin arkadaşlarından biri, “Komşunun komşu üzerinde hakları nelerdir?” diye sordu.

Aşağıdakilerden hangisi Peygamberimizin bu soruya verdiği cevaplardan biri olamaz?

- A) Eşyalarını izinsiz kullanmak
- B) Borç istediğinde vermek
- C) Hastalandığında ziyaret etmek
- D) Taziye de bulunup cenazesine katılmak

13. “*Cebrail bana komşu hakkında o kadar çok tavsiyede bulundu ki Yüce Allah’ın komşuyu komşuya mirasçı kılacağını zannettim.*”

Hadis-i Şerif

Peygamberimizin bu hadisi aşağıdakilerden hangisini desteklemez?

- A) Komşu komşunun külüne muhtaçtır.
- B) Komşuda pişen bizde düşer.
- C) Komşunun tavuğu komşuya kaz görünür.
- D) Komşusu açken tok yatan bizden değildir.

14. Hz. İbrahim yaşadığı ülkenin kralı Nemrut’a giderek onu Allah’a inanmaya çağırdı.

Nemrut: “Bu ülkenin tanrısı benim. Senin tanrının da kim?” dedi.

İbrahim: “Benim rabbim Allah’tır. O öldürür ve diriltir.” deyince,

Nemrut: “Ben de öldürürüm ve diriltirim” dedi. İki köle getirtti birini öldürttü, birini salıverdi.

İbrahim:

Bu olayda Hz. İbrahim’in Nemrut’u çaresiz bırakan cevabı aşağıdakilerden hangisidir?

- A) Allah seni de bir gün öldürüp diriltecek.
- B) Allah güneşi doğudan getiriyor, sen de batıdan getirsene?
- C) Dünya’daki varlıkların rızkında sen verebilecek misin?
- D) Peki kendi ölümüne engel olabilecek misin?

15. Her yıl 30 Ağustos’ta vatanın düşman işgalinden temizlenmesi anısına kutlanan milli bayram aşağıdakilerden hangisidir?

- A) Zafer Bayramı
- B) Cumhuriyet Bayramı
- C) Gençlik ve Spor Bayramı
- D) Ulusal Egemenlik ve Çocuk Bayramı

16. Öğle namazı vaktinde, haftada bir defa camiide cemaatle kılınan namaz aşağıdakilerden hangisidir?

- A) Bayram
- B) Teravih
- C) Cenaze
- D) Cuma

2. OTURUM

17. Aşağıdaki namazlardan hangisi sadece Ramazan ayında kılınır?

- A) Teravih B) Vitr
C) Bayram D) Tesbih

18. Hz. Muhammed'in doğum günü olarak kutlanan kandil gecesi aşağıdakilerden hangisidir?

- A) Berat B) Regaip C) Mevlit D) Miraç

19. • Kur'an-ı Kerim bu gecede indirilmeye başlanmıştır.

- Ramazan ayının yirmiyedinci gecesine rastlamaktadır.

Hakkında bilgi verilen kandil gecesi aşağıdakilerden hangisidir?

- A) Regaip B) Mevlit C) Berat D) Kadir

20. Bastığın yerleri "toprak" diyerek geçme, tanı: Düşün altındaki binlerce kefensiz yatanı. Sen şehit oğlusun, incitme, yazıktır atanı: Verme, dünyaları alsan da bu cennet vatanı.

M. Akif Ersoy

Bu dördlüğün ana teması aşağıdakilerden hangisidir?

- A) Vatan sevgisi B) Kahramanlık ve yiğitlik
C) Hak ve adalet D) Barış

(601) TÜRKÇE – 6

1. "Aç - tok" sözcükleri arasındaki anlam ilişkisi aşağıdakilerin hangisinde vardır?

- A) Canlı - diri B) Güç - kuvvet
C) Boş - dolu D) Görev - vazife

2. "Baş" sözcüğü aşağıdaki cümlelerin hangisinde "bir şeyin yakını veya çevresi" anlamında kullanılmıştır?

- A) Marketten üç baş soğan aldı.
B) Sağ eliyle başındaki şapkayı çıkardı.
C) Havuz başına oturmuş, kitap okuyormuş.
D) Hafta başında yeni evlerine taşınacaklarmış.

3. Aşağıdakilerin hangisinde altı çizili sözcük mecaz anlamıyla kullanılmıştır?

- A) Kısa boylu, sevimli bir çocuktü.
B) Biz ekmeğimizi tiyatroya bağlamıştık.
C) Tahtaları kımıldattığında üzerine topraklar dökülmeye başladı.
D) Kollarındaki ağıri henüz geçmemişti.

4. Aşağıdaki cümlelerin hangisinde "dolu" sözcüğü diğerleriyle sesteştir?

- A) Dağda keklik doluydu.
B) Çiftçinin ekinlerini dolu vurmuş.
C) Masada suyla dolu bir şişe vardı.
D) Pazartesiye kadar bütün uçaklar doluymuş.

5. "Kapıyı tekrar açtığıında çantasının yerinde yeller estiğini gördü." cümlesindeki altı çizili deyimın anlamı aşağıdakilerden hangisidir?

- A) Rastgele görmek
B) Savurmak, boşa harcamak
C) Yola çıkmak, hareket etmek
D) Artık bulunmamak, yok olmak

6. "Başarıya ulaşmak için birlik olmak gerek." Bu açıklamaya uygun atasözü aşağıdakilerden hangisidir?

- A) Bir elin nesi var, iki elin sesi var.
B) Bir fincan kahvenin kırk yıl hatırı vardır.
C) Bir koltuğa iki karpuz sığmaz.
D) Bir başa bir göz yeter.

7. Aşağıdaki cümlelerin hangisinde sebep-sonuç ilişkisi vardır?

- A) Yemek yaparken annesine yardım etti.
B) Yorgun oldukları için biraz dinlendiler.
C) Ablasına büyük bir çanta aldı.
D) Ne yapacaklarını konuşmaya başladılar.

8. Gerçekte olan veya olması mümkün olayların kişi, yer ve zaman belirtilerek anlatıldığı yazı türüne ne ad verilir?

- A) Söyleşi B) Deneme
C) Masal D) Hikâye

2. OTURUM

9. Çiçek açmış ağaçlara bak ne güzel;
Gel bizim olsun serçelerin neşesi!
Gel seninle kırlara açılalım gel!
Neler vadetmiyor akarsuyun sesi?

Bu şiirin ana duygusu aşağıdakilerden hangisidir?

- A) Bahar sevinci B) Merak
C) Yalnızlık D) Gençliğe özlem

10. Sıcaklık sıfır derecenin altındayken havadaki su buharı bulutlardaki toz taneciklerinin üzerinde yoğunlaşır. Böylece su buharı kristalleşir. Bu kristaller büyüüp birbirlerine yapıştıklarında kar taneleri oluşur.

Bu paragraf aşağıdaki sorulardan hangisinin cevabıdır?

- A) Kar kristallerinin her biri neden farklı biçimdedir?
B) Kara bastığımızda neden ses çıkar?
C) Kar taneleri neden beyazdır?
D) Kar taneleri nasıl oluşur?

11. Aşağıdaki sözcüklerden hangisinin kökü isimdir?

- A) Uçak B) Üzüntü
C) Çaresiz D) Gülümseme

12. Aşağıdaki sözcüklerden hangisi büyük ünlü (kalınlık-incelik) uyumuna uymaz?

- A) Gönlümden B) Kardeşlik
C) Bilezik D) Kırlangıç

13. Aşağıdaki isimlerden hangisi ayrılma (çıkma) durum eki almıştır?

- A) Pazardan B) Gözlüğe
C) Yolda D) Perdeyi

14. Aşağıdakilerin hangisinde somut ve soyut sözcükler birlikte verilmiştir?

- A) Çiçek - ağaç B) Kalem - defter
C) Korku - üzüntü D) Kitap - sevinç

15. Aşağıda verilen isimlerden hangisinin özellikleri yanlış belirtilmiştir?

- A) Ekip, özel ve çoğul isimdir.
B) Dergiler, cins ve çoğul isimdir.
C) Mehmet, özel ve tekil isimdir.
D) Kuş, cins ve tekil isimdir.

16. “Denizin dibi görünmüyor.” cümlesindeki altı çizili sözcükte hangi ses olayı vardır?

- A) Ünlü daralması
B) Ünsüz yumuşaması
C) Ünsüz benzeşmesi
D) Ünlü düşmesi

17. “Yapıyorsunuz” eyleminin kip ve kişisi aşağıdakilerden hangisidir?

- A) Şimdiki zaman, 2. çoğul kişi
B) Geniş zaman, 3. tekil kişi
C) Duyulan geçmiş zaman, 2. tekil kişi
D) Bilinen geçmiş zaman, 1. çoğul kişi

18. Aşağıdaki cümlelerde altı çizili sözcüklerden hangisi işaret zamiridir?

- A) Hepimiz bu vatanın çocukları değil miyiz?
B) Yarın ablamla size geleceğiz.
C) Şunu bana uzatır mısın?
D) Birçoğu olup bitenden habersizdi.

19. Aşağıdaki cümlelerin hangisinde “da, de”nin yazımıyla ilgili bir yanlışlık yapılmıştır?

- A) Babam bahçe de zaman geçirmeyi severdi.
B) Pencerenin önünde büyük bir vazo vardı.
C) Her gün odasında bir saat kitap okurdu.
D) Sabah sporu yapmaya o da geldi.

20. Aşağıdakilerden hangisi noktanın kullanıldığı yerlerden biri değildir?

- A) Sayılardan sonra sıra bildirmek için konur.
B) Bir yazının maddelerini gösteren rakam veya harflerden sonra konur.
C) Hitap için kullanılan kelimelerden sonra konur.
D) Saat ve dakika gösteren sayıları birbirinden ayırmak için konur.

2. OTURUM

(602) MATEMATİK – 6

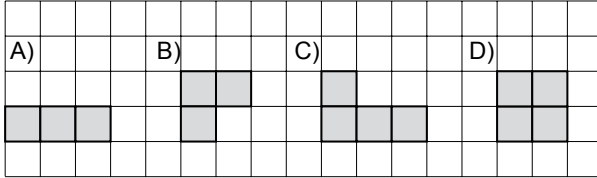
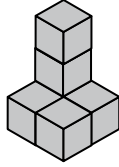
1. $10 \times (15 + 5)$ işleminin sonucu aşağıdakilerden hangisine eşittir?

- A) $(10 \times 15) + (10 \times 5)$
 B) $(10 + 20) \times (10 + 15)$
 C) $(10 + 15) \times (10 + 5)$
 D) $(10 + 20) + (10 \times 5)$

2. Ceren'in kütüphanesindeki kitapların sayısı 110 ile 120 arasındadır. Kitapların sayısı 9 ile bölünebildiğine göre, Ceren'in kütüphanesinde kaç kitap vardır?

- A) 119 B) 117 C) 116 D) 111

3. Yandaki yapı birim küplerle oluşturulmuştur. Aşağıdakilerden hangisi bu yapının üstten görünümüdür?



4. Aşağıdaki sıralamalardan hangisi doğrudur?

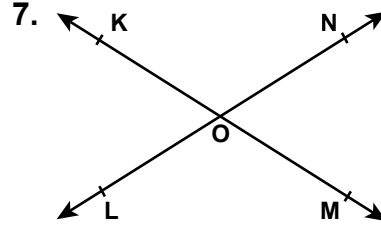
- A) $|-17| > |+11| > |+8| > |-4|$
 B) $|-17| > |+11| > |-4| > |+8|$
 C) $|+11| > |+8| > |-4| > |-17|$
 D) $|+8| > |-4| > |+11| > |-17|$

5. $\left(\frac{3}{2} - \frac{4}{3}\right) + \left(\frac{4}{3} - \frac{1}{2}\right)$ işleminin sonucu kaçtır?

- A) $\frac{1}{6}$ B) $\frac{5}{6}$ C) 1 D) 4

6. Ondalık gösterimi 0,24 olan kesir aşağıdakilerden hangisidir?

- A) $\frac{3}{25}$ B) $\frac{6}{25}$ C) $\frac{4}{9}$ D) $\frac{24}{25}$



7. Şekle göre aşağıdakilerin hangisinde verilen açılar ters açılardır?

- A) \widehat{KOL} ile \widehat{LOM} B) \widehat{NOM} ile \widehat{MOL}
 C) \widehat{MON} ile \widehat{NOK} D) \widehat{KON} ile \widehat{LOM}

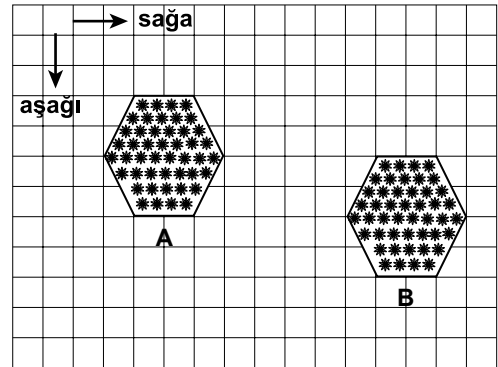
8. $13,017 + 26,983$ işleminin sonucu kaçtır?

- A) 4 B) 40 C) 40,9 D) 40,99

9. Mevcudu 24 kişi olan bir sınıfta 8 öğrenci futbol oynamaktadır. Futbol oynayanların sınıf mevcuduna oranı nedir?

- A) $\frac{1}{2}$ B) $\frac{1}{3}$ C) $\frac{1}{4}$ D) $\frac{2}{3}$

10.



Nalan altıgen şeklindeki masa örtüsünü A konumundan B konumuna getirmiştir. Buna göre masa örtüsü nasıl ötelenmiştir?

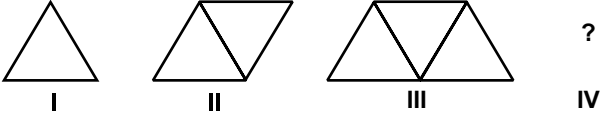
- A) 8 birim sağa, 2 birim aşağıya
 B) 8 birim sağa, 4 birim aşağıya
 C) 4 birim sağa, 4 birim aşağıya
 D) 2 birim sağa, 6 birim aşağıya

11. $s(A) = 12$, $s(B) = 7$ ve $s(A \cap B) = 3$ ise B/A kümesinin eleman sayısı aşağıdakilerden hangisidir?

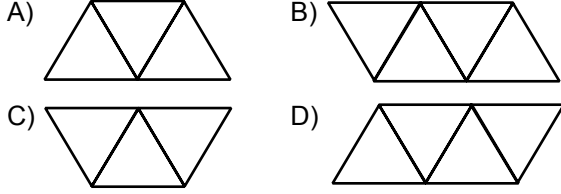
- A) 4 B) 7 C) 9 D) 10

2. OTURUM

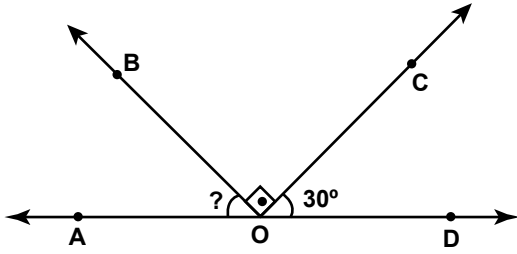
12.



Örüntünün IV. adımında soru işareti yerine aşağıdakilerden hangisi gelmelidir?



13.



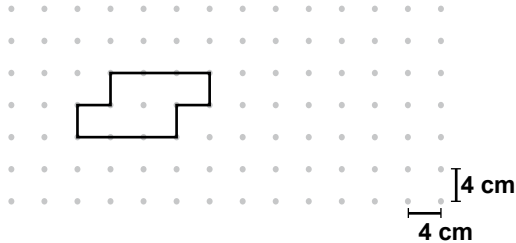
Şekilde A, O, D noktaları doğrusal ve $OB \perp OC$ 'tir. $m(\widehat{COD}) = 30^\circ$ olduğuna göre, $m(\widehat{AOB})$ kaç derecedir?

- A) 30 B) 45 C) 60 D) 90

14. Çevresinin uzunluğu 310 m olan dikdörtgen şeklindeki bahçenin kısa kenarının uzunluğu 30 m'dir. Bu bahçenin alanı kaç metrekaredir?

- A) 1530 B) 2530 C) 3750 D) 9300

15.



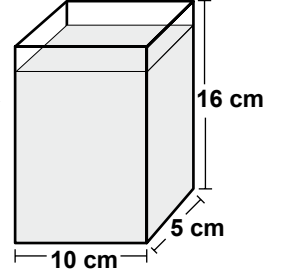
Verilen düzlemsel şeklin çevresinin uzunluğu kaç santimetredir?

- A) 32 B) 36 C) 40 D) 48

16. 6 pantolon, 4 gömlek ve 2 kravatı bulunan bir kimse, bir pantolon, bir gömlek ve bir kravat-tan oluşan takımı kaç farklı şekilde giyebilir?

- A) 12 B) 24 C) 32 D) 48

17. Bir fabrikada, ayrıt uzunlukları yanda verilen kutulara üstten 1 cm boşluk kalacak şekilde süt dolduruluyor. Bu kaplarda kaç mililitre süt vardır?



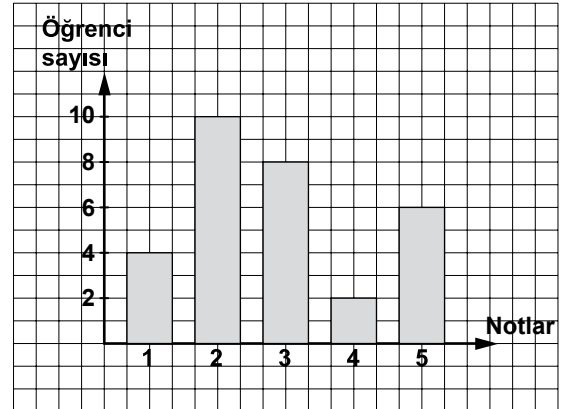
- A) 7,5 B) 75 C) 750 D) 7500

18. Küp şeklindeki bir kutunun yüzleri 1'den 6'ya kadar sayı ile numaralandırılıyor. Bu kutu yere atıldığında üst yüze gelen sayının çift sayı olma olasılığı nedir?

- A) $\frac{2}{3}$ B) $\frac{1}{2}$ C) $\frac{1}{4}$ D) $\frac{1}{6}$

19.

Grafik: 6/A Sınıfı Öğrencilerinin Matematik Dersinde Aldığı Notlar



Verilen grafikte bir sınıfta matematik dersinde öğrencilerin aldığı notlar görülmektedir. Bu sınıfta 1 ve 3 alanların toplamı kaç kişidir?

- A) 8 B) 9 C) 12 D) 14

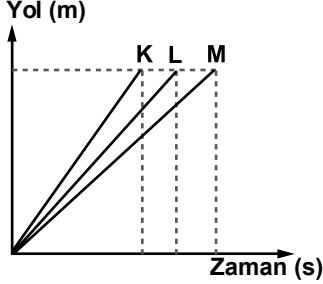
20. 3 katının 5 eksiği 19'a eşit olan sayı aşağıdaki denklemlerden hangisi yardımıyla bulunur?

- A) $3x - 5 = 19$ B) $5x - 3x = 19$
C) $5x - 3 = 19$ D) $19x - 5 = 3$

2. OTURUM

(603) FEN VE TEKNOLOJİ – 6

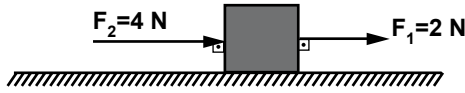
1. Odanın bir kenarından diğer kenarına giden K, L ve M oyuncak arabalarına ait yol-zaman grafiği şekildeki gibidir.



Buna göre, arabaların V_K , V_L ve V_M hızları arasındaki ilişki aşağıdakilerin hangisinde doğru verilmiştir?

- A) $V_K = V_L = V_M$ B) $V_K = V_L > V_M$
C) $V_K > V_L > V_M$ D) $V_M > V_L > V_K$

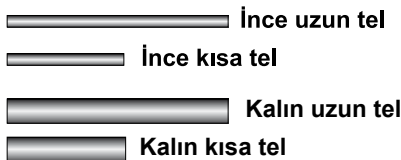
2. Sürtünmenin ihmal edildiği bir yerde bulunan cisme, şekildeki gibi iki kuvvet etki ediyor.



Buna göre, cisme etki eden net kuvvetin büyüklüğü ve yönü aşağıdakilerin hangisinde doğru verilmiştir?

	Büyüklüğü	Yönü
A)	2	→
B)	6	→
C)	6	←
D)	2	←

3. Öğretmen, elektrik devresi kurmak için iletken aynı maddeden yapılmış aşağıdaki telleri sınıfa getirdi.



Buna göre, öğretmen kurduğu devredeki ampul parlaklığının maksimum olması için hangi teli seçmelidir?

- A) İnce uzun B) Kalın uzun
C) İnce kısa D) Kalın kısa

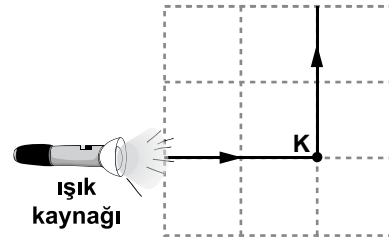
4. Ahmet basit bir elektrik devresi kurdu. İletken teli bir yerinden keserek iki test ucu oluşturdu. Test uçlarına K, L ve M maddelerini temas ettirdiğinde ampulün ışık verme durumunu aşağıdaki tabloya kaydetti.

Madde	Ampul ışık verdi	Ampul ışık vermedi
K	✓	
L		✓
M	✓	

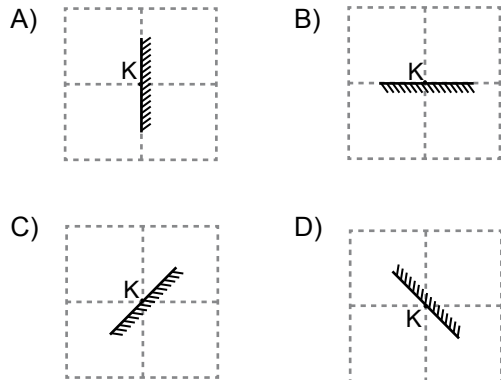
Buna göre, bu maddeler aşağıdakilerden hangisi olabilir?

	K	L	M
A)	Alüminyum folyo	Saf su	Tuzlu su
B)	Alüminyum folyo	Tuzlu su	Saf su
C)	Tuzlu su	Alüminyum folyo	Saf su
D)	Saf su	Tuzlu su	Alüminyum folyo

5. Işık kaynağından çıkan ışık ışını K noktasındaki düz aynadan yansıyarak şekildeki yolu izliyor.

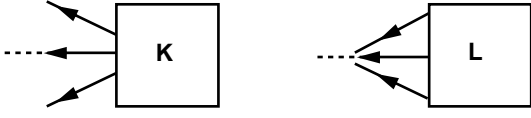


Buna göre, K noktasındaki aynanın konumu aşağıdakilerin hangisinde doğru verilmiştir?



2. OTURUM

6. Paralel ışık demetleri K ve L kutusu üzerine düşürüldüğünde ışık ışınlarının yansımaları aşağıdaki gibi oluyor.



Buna göre, K ve L kutuları içindeki aynaların cinsi aşağıdakilerden hangisi olabilir?

K	L
A) Tümsek ayna	Düz ayna
B) Tümsek ayna	Çukur ayna
C) Çukur ayna	Düz ayna
D) Çukur ayna	Tümsek ayna

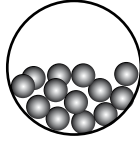
7. Aşağıdakilerden hangisi başkalaşım kayalarından örnek olabilir?

A) Mermer	B) Andezit
C) Granit	D) Kum

8. Bitki ve hayvan kalıntılarının çürümesiyle oluşan yumuşak ve verimli toprak aşağıdakilerden hangisidir?

A) Killi	B) Kireçli	C) Kumlu	D) Humuslu
----------	------------	----------	------------

9. Fiziksel hâli yandaki tanecik modeliyle temsil edilen madde aşağıdakilerden hangisi olabilir?



A) Demir tozu	B) Kum
C) Su	D) Doğal gaz

10. Ali, yaz aylarında giymek için kendisini serin tutacak kısa kollu gömlek almak istiyor. Buna göre Ali, aynı kumaştan dikilmiş aşağıda renkleri verilen gömleklerden hangisini almalıdır?

A) Lacivert	B) Beyaz
C) Siyah	D) Mor

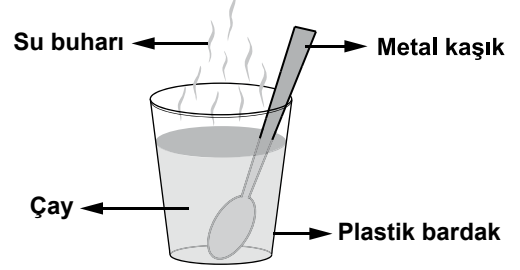
11. Aşağıdaki öğrencilerden hangisinin verdiği örnekte, madde sadece fiziksel değişime uğramıştır?

A) Elif	: Hamurun mayalanması
B) Mehmet	: Patatesin kızartılması
C) Murat	: Kibritin yanması
D) Ayşe	: Buzun erimesi

12. Aşağıda belirtilen eşya kısımlarının hangisinin yapımında ısı iletkeni tercih edilir?

- A) Ütünün tabanı
- B) Fırının düğmesi
- C) Tencerenin kulpu
- D) Bakır cezvenin sapı

- 13.



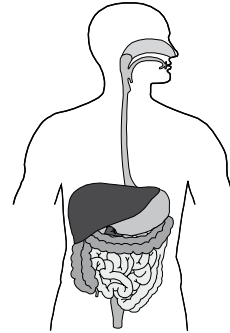
Şekilde gösterilen hangi maddelerin tanecikleri öteleme hareketi yapar?

- A) Yalnız su buharı
- B) Çay ve su buharı
- C) Yalnız metal kaşık
- D) Çay ve plastik bardak

14. Aşağıdakilerin hangisinde verilenlerin her ikisi de çok hücreli canlılardır?

- A) Öglene - Amip
- B) Balina - Elma ağacı
- C) Elma ağacı - Öglene
- D) Şapkalı mantar - Terlikli hayvan

- 15.

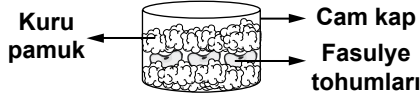


Bir öğrenci sınıfta "Hücreden Organizmaya" konusunu ilgili sunum yapıyor. Buna göre yukarıdaki şekil bütün olarak aşağıdakilerden hangisine örnek gösterilebilir?

- A) Sistem
- B) Organ
- C) Doku
- D) Organizma

2. OTURUM

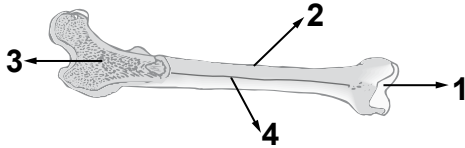
16. Ayşe, laboratuvarında şekildeki gibi hazırladığı cam kaptaki fasulyelerin çimlenmediğini gözlüyor.



Ayşe, bu düzenekte aşağıdakilerden hangisini yaparsa çimlenme olayı gerçekleşir?

- A) Cam kabı karanlık dolaba koyarsa
B) Pamuk yerine kuru toprak koyarsa
C) Cam kap yerine karton kutu kullanırsa
D) Kaptaki pamukları ıslatacak kadar su koyarsa
17. Organik tarımın amacı aşağıdakilerden hangisidir?
- A) Dünyadaki açlık sorununa çözüm bulmak
B) Ürün çeşitliliğini ve verimi artırmak
C) Doğayı ve canlı sağlığını koruyarak tarım yapmak
D) Hızlı gelişen yeni bitki türleri üretmek

18. Şekilde bacağımızda yer alan uzun kemiklerden biri verilmiştir.



Bu kemikte numaralandırılmış kısımlardan hangisi kırmızı kemik iliği ile doludur?

- A) 1 B) 2 C) 3 D) 4
19. I- Virüsler, hücre dışında cansız olup ancak canlı hücre içine girince canlılık özelliği gösterirler.
II- Yoğurt, peynir ve sirke yapımında virüslerden faydalanılır.
- Virüslerle ilgili olarak yukarıda verilen bilgiler için ne söylenebilir?
- A) Yalnız I doğru
B) Yalnız II doğru
C) Her ikisi de doğru
D) Her ikisi de yanlış

20. ●, ağız veya burundan giren havanın soluk borusuna, besinlerin yemek borusuna geçmesini sağlar.
★, kıkırdaktan oluşur ve ses tellerini içerir.

Yukarıda ● ve ★ ile belirtilen solunum sistemi kısımları aşağıdakilerin hangisinde verilmiştir?

- | | |
|------------|--------------|
| ● | ★ |
| _____ | _____ |
| A) Gırtlak | Burun |
| B) Yutak | Gırtlak |
| C) Gırtlak | Yutak |
| D) Yutak | Soluk borusu |

(704) SOSYAL BİLGİLER – 7

1. Aşağıdakilerden hangisi iletişimin kesilmesine yol açan bir durumdur?

- A) Empati kurmak
B) Kişiyi uyarmak
C) Aceleci davranmamak
D) Duygularımıza kapılmamak

2. “Şiddet / Korku” yayınlarını ifade eden “Akıllı İşaret” aşağıdakilerden hangisidir?

- A)
- B)
- C)
- D)

2. OTURUM

3. gazetesi halka Millî Mücadele'yi anlatmış, padişah ve İstanbul Hükûmetinin durumunu gözler önüne sermiştir. Mustafa Kemal bu gazetede düzenli olarak başyazıları yazmıştır.

Boş bırakılan yere aşağıdaki gazetelerden hangisi yazılmalıdır?

- A) İrade-i Milliye B) Ceride-i Resmîye
C) Hakimiyet-i Milliye D) Takvim-i Vekayi

4. Aşağıdaki illerden hangisinin nüfusu diğerlerinden fazladır?

- A) Sivas B) İzmir C) Malatya D) Eskişehir

5. Osmanlılar fethettikleri her bölgeye Anadolu'dan getirdikleri konargöçer Türkmenleri yerleştiriyordu. Türkmenlerden vergi de alınmıyordu. Böylece fethedilen bölge Türkleştirilerek bölgenin elde tutulması sağlanıyordu.

Bu bilgi, Osmanlı Devleti'nin güçlü bir devlet olarak ortaya çıkmasında etkili olan etmenlerden hangisiyle ilişkilendirilmelidir?

- A) İskan politikasıyla
B) Coğrafi konumuyla
C) Ekonomik yapısıyla
D) Gaza ve cihat anlayışıyla

6. Emir Gazi Kümbeti, Kayseri Ulu Cami, Niksar Yağlıbasan Medresesi gibi eserleri Anadolu'ya kazandıran Türk beyliği, aşağıdakilerden hangisidir?

- A) Artuklular B) Saltuklular
C) Mengücekliler D) Danişmentliler

7. Nüfus artış hızını belirleyen en önemli etken, aşağıdakilerden hangisidir?

- A) İç göçlerin yaşanması
B) Yaşam şartlarının yükselmesi
C) Doğum oranlarının artması
D) Sağlık olanaklarının iyileşmesi

8. Sokullu Mehmet Paşa, gönderilen Venedik elçisine; İnebahtı Deniz Savaşı'yla ilgili olarak "Biz Adası'nı almakla sizin kolunuzu kestik, siz İnebahtı'da bizi yenmekle, sakalımızı tıraş ettiniz. Kesilen kolun yerine yenisi gelmez fakat kesilen sakalın yerine daha gür çıkar." diye cevap verir.

Boş bırakılan yere aşağıdaki adalardan hangisi yazılmalıdır?

- A) Midilli B) Girit C) Rodos D) Kıbrıs

9. 19. yüzyılın sonlarına doğru Akdeniz limanlarının yeniden önem kazanması; aşağıdaki gelişmelerden hangisinin sonucudur?

- A) Süveyş Kanalı'nın açılmasının
B) Yeni kıtaların keşfedilmesinin
C) Sanayi İnkılabı'nın gerçekleşmesinin
D) Gemi yapım teknolojilerinin ilerlemesinin

10. Padişah fermanlarına ve beratlarına tuğra (imza) çeken, devletin en önemli gelir kaynağı olan arazilerin kayıtlarını içeren tahrir defterlerini tutan Divanühümayun üyesi, aşağıdakilerden hangisidir?

- A) Sadrazam B) Nişancı
C) Defterdar D) Kazasker

11. Türkiye Selçukluları'ndaki "debbağ" mesleğinin günümüz karşılığı aşağıdakilerden hangisidir?

- A) Derici B) Çiftçi
C) Marangoz D) Demirci

12. İznik'teki medreseye atanan ilk Osmanlı müderrisi aşağıdakilerden hangisidir?

- A) Ali Kuşçu B) Molla Gürani
C) Davud-ı Kayseri D) Hıfzı Mehmet Efendi

13. MÖ 4241 yılında gök cisimlerinin hareketlerini inceleyerek ilk takvimi bulan medeniyet, aşağıdakilerden hangisidir?

- A) Lidyalılar B) Hintliler
C) Sümerliler D) Mısırlılar

2. OTURUM

14. Aşağıdaki gelişmelerden hangisi Coğrafi Keşiflerin sonuçlarından biri değildir?

- A) Amerika kıtası keşfedildi.
- B) Skolastik düşünce güç kazandı.
- C) Dünyanın yuvarlak olduğu ispatlandı.
- D) Kiliseye ve din adamlarına olan güven azaldı.

15. • Doğruyu bulmak insanın bir yetisidir.
• İnsanla ilgili konuların, doğaüstü inanışlarla açıklanması mümkün değildir.
• Gerçek, gözü kapalı kabullenmelerle değil, bilimsel şüphecilik ve bilimsel yöntemle bulunmalıdır.

Verilen bilgiler aşağıdaki akımlardan hangisine aittir?

- A) Natüralizm
- B) Hümanizm
- C) Realizm
- D) Dogmatizm

16. Osmanlıda, zihinsel engelli bireyler ve psikolojik rahatsızlığı bulunan insanlara müzik eşliğinde tedavi hizmeti veren vakıf kurumu, aşağıdakilerden hangisidir?

- A) Sahn-ı Seman
- B) Tetimme
- C) Bimarhane
- D) İmarethane

17. Meclisin çıkardığı kanunları inceleyerek denetleyen, anayasaya uygun olmayan maddeleri iptal edip geçersiz kılan kurum, aşağıdakilerden hangisidir?

- A) Yargıtay
- B) Danıştay
- C) Sayıştay
- D) Anayasa Mahkemesi

18. Avrupa'da Sanayi İnkılabı'nın gerçekleşmesi ile birlikte üretimde hızlı bir makineleşme yaşandı. Aşağıdakilerden hangisi bu hızlı makineleşmenin doğal bir sonucu değildir?

- A) Uluslararası ticaretin daralması
- B) Sömürgecilik yarışının hız kazanması
- C) Seri ve ucuz üretiminin yaygınlaşması
- D) Dünyada yeni pazar yerlerinin ortaya çıkması

19. İlk Çağ'da insanların mağara duvarlarına çizmiş oldukları resimler, insanlığın ortak miras alanlarından hangisi ile ilişkilendirilmelidir?

- A) Sanat
- B) Edebiyat
- C) Bilim
- D) Düşünce

20. I- I. Balkan Savaşı'nın başlaması.
II- Tanzimat Fermanı'nın ilan edilmesi.
III- Düyun-ı Umumiye Teşkilatı'nın kurulması.
Verilen olayların kronolojik olarak doğru sıralanışı aşağıdakilerden hangisidir?

- A) I - II - III
- B) II - I - III
- C) III - I - II
- D) II - III - I

(707) İNGİLİZCE – 7

1 - 20. sorularda boş bırakılan yere uygun gelen kelime ya da ifadeyi işaretleyiniz.

1. A cat is different a dog.

- A) from
- B) as
- C) to
- D) with

2. My father is work.

- A) on
- B) at
- C) in
- D) to

3. I wore my boots going out.

- A) before
- B) after
- C) when
- D) which

4. I can't buy that jacket it is very expensive.

- A) so
- B) while
- C) because
- D) although

5. She decorated the room

- A) myself
- B) herself
- C) himself
- D) itself

6. I am ten now. I nine last year.

- A) will be
- B) am
- C) am going to be
- D) was

7. He swim well, but he run fast. He is the slowest runner in the school.

- A) can/can
- B) can't/can't
- C) can/can't
- D) can't/can

8. She the dishes now.

- A) is washing
- B) has washed
- C) washes
- D) washed

2. OTURUM

9. I my car last month.
A) to sell B) selling C) sell D) sold
10. A baby can't
A) listen to music B) drive a car
C) drink milk D) watch TV
11. When I was a young man, I was rich. I used to too much money.
A) borrow B) look C) spend D) see
12. You drive fast. It's very dangerous.
A) mustn't B) must
C) should D) can
13. She is a slow driver. She drives
A) happily B) loudly
C) slowly D) early
14. Tom is 50 years old. Mary is 35 years old. Tom is than Mary.
A) smaller B) taller
C) fatter D) older
15. The meeting is at 11 o'clock. Don't
A) be late B) write a letter
C) open your mouth D) read a newspaper
16. It's too late.
A) I may listen to the music.
B) I must go to the bed.
C) I can watch TV.
D) I will go outside.
17. It's too hot outside.
A) You shouldn't go out.
B) You must get up early.
C) You don't have to study.
D) You should drink milk.

18. Look at the clouds!
A) I'm going to be a doctor.
B) We're going to travel.
C) He's going to study.
D) It's going to rain.
19. If he didn't drink so much cold water, he
A) wouldn't buy a sports car
B) wouldn't catch a cold
C) would pass the exam
D) would lend it to you
20. A: How often do you go to the cinema?
B:
A) Since last night. B) For three years.
C) Once a week. D) Recently.

(707) ALMANCA – 7

1 - 20. sorularda boş bırakılan yere uygun gelen ek, kelime ya da ifadeyi işaretleyiniz.

1. A: Hallo! Wie geht es dir?
B: Danke, es geht mir gut.
Und?
A: Danke, es geht mir auch gut.
A) dir B) mir C) du D) ich
2. A: Wie heißt?
B: heiße Ayşe.
A) er / Er B) wir / Ich C) Sie / Sie D) du / Ich
3. A: Hast du Heft?
B: Nein, ich habe Heft.
A) ein / keine B) das / das
C) ein / kein D) eine / nicht
4. A: Was hast du in der Tasche?
B: Ich habe ein-..... Füller in der Tasche.
A) -em B) -en C) -e D) -er

2. OTURUM

5. **A: Hast du auch ein Bleistift?**
B: Nein, ich habe Bleistift.

A) kein B) einen C) keinen D) ein

6.



- A: Ist Buch für mich?**
B: Nein, das ist nicht für dich.

A) dieser B) diese C) diesen D) dieses

7. **Ich habe 27. Februar Geburtstag.**

A) am B) im C) um D) in

8. **Ich dir zum Geburtstag!**

A) gratulierst B) gratuliere
C) gratulieren D) gratuliert

9. **A: Möchtest du gern schwimmen?**
B: Nein, ich möchte schwimmen.

A) kein B) keine C) nicht D) gern

10. **Wann Mehmet Basketball spielen?**

A) will B) wollen C) willst D) wollt

11. **Zwölf Monate sind**

A) ein Monat B) eine Woche
C) ein Jahr D) ein Tag

12. **Ich habe am Geburtstag. (20 Mayıs)**

A) zwanzigsten Mai B) zweiten März
C) zwölften April D) zehnten Januar

13. **Mein Vater im Supermarkt
(einkaufen)**

A) kaufen / ein B) kaufe / ein
C) kaufst / ein D) kauft / ein

14. **Die Mutter kocht**

A) das Schlafzimmer B) in der Küche
C) in die Küche D) aus dem Garten

15.



- A: Wo ist das Kind?**

B: Es ist

A) im Kino B) draußen C) drinnen D) im Haus

16. **Petra im Jahre 2001 in Deutschland
.....**

A) hat / geboren B) wird / geboren
C) ist / geboren D) muss / geboren

17. **A: ?**

B: Ich bin Lehrerin.

A) Wo wohnen Sie?
B) Was machen Sie?
C) Wem gehört das?
D) Was sind Sie von Beruf?

18. **A: Wem bringt er Wasser?**

B: Er bringt seiner Freundin.

A) das / es B) die / sie
C) der / er D) den / es

19. **A: Warum kommt er heute nicht?**

B: er keine Zeit hat.

A) denn B) weil C) aber D) dass

2. OTURUM

20. Ich möchte ein-..... grün-..... Hose kaufen.

- A) -e / -en B) -er / -e
C) -en / -en D) -e / -e

(707) FRANSIZCA – 7

1 - 18. sorularda boş bırakılan yere uygun gelen kelime ya da ifadeyi işaretleyiniz.

1. Paris est plus que Marseille.

- A) touriste B) peuplé
C) visiter D) nature

2. Antalya : 27° - Ankara : 22°

À Ankara, il fait chaud qu'Antalya.

- A) moins B) plus C) aussi D) autant

3. équilibré pour être en bonne santé !

- A) Mangé B) Mangent
C) Mangée D) Mangez

4. Mon père a acheté un de tomate.

- A) litre B) kilo C) cuillère D) tasse

5. Tu dois du sport !

- A) faites B) faisons C) fais D) faire

6. Ma sœur ne mange pas viande.

- A) du B) des C) de D) de l'

7. S'il ne fait pas beau, je ne pas.

- A) sortirez B) sortirai
C) sortir D) sortirons

8. Si tu es riche, qu'est-ce que tu?

- A) feras B) as fait C) es fait D) ferai

9. Tu es têtue une chèvre.

- A) pendant B) rien
C) comme D) depuis

10. Cette ville est plus que ma ville.

- A) grande B) grand
C) grands D) grandes

11. Elle a donné son livre à copine.

- A) son B) ses C) sa D) mon

12. Ils leurs études à Paris.

- A) ont fait B) faire
C) est fait D) es fait

13. Elle n'a voyagé.

- A) ou B) où C) dont D) plus

14. La semaine dernière, on en Espagne.

- A) va B) est allé C) ira D) vas

15. Hier, maman à 6 heures.

- A) se réveille B) s'est réveillé
C) se réveillera D) s'est réveillée

16. Pour acheter de la viande, il faut aller à la

- A) pâtisserie B) boucherie
C) boulangerie D) crèmerie

17. A : Prenez- vous du sucre ?

B : Non, je ne (n') prends pas

- A) y B) des C) de D) en

18. A : Allô!

B : Bonjour monsieur, c'est Pierre.


A : Bonjour Pierre, vas-tu?

- A) quel B) que
C) comment D) qui

2. OTURUM

19 - 20. soruları resimleri dikkate alarak cevaplayınız.

19.

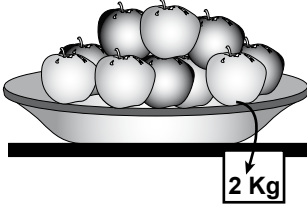


A : Quel temps fera-t-il demain?

B : Il y aura du

- A) pluie B) nuages C) vent D) soleil

20.



Pierre va acheter

- A) un kilo de tomates B) deux kilos de pommes
C) une portion de riz D) une tranche de pomme

(708) DİN KÜL. VE AHLAK BİLGİSİ – 7

1. Meleklerin özellikleriyle ilgili aşağıdakilerden hangisi yanlıştır?

- A) Toprakten yaratılmışlardır.
B) Erkeklik ve dişilik özellikleri yoktur.
C) Son derece hızlı ve güçlüdürler.
D) Yeme ve içme gibi ihtiyaçları yoktur.

2. “İki melek insanın sağında ve solunda oturarak yaptıklarını yazmaktadırlar. Her ne söz söylerse, mutlaka yanında gözetleyen biri vardır.”

(Kaf suresi, 17. ve 18. ayetler)

Bu ayetlerde aşağıdaki meleklerin hangilerinden bahsedilmektedir?

- A) Hafaza Melekleri B) Kiramen Katibin
C) Münter - Nekir D) Azrail

3. Şeytan hakkında aşağıda verilen bilgilerden hangisi yanlıştır?

- A) Allah'ın varlığını reddeder.
B) Ateşten yaratılmıştır.
C) Müslümanları harama teşvik eder.
D) Kibir ve isyanından dolayı kovulmuştur.

4. Aşağıdakilerden hangisi “öldükten sonra tekrar dirilmek” anlamına gelir?

- A) Mizan B) Sırat C) Ba's D) Haşr

5. Aşağıdakilerden hangisi insanların tekrar dirilmesiyle başlayıp sonsuz olarak devam edecek hayatı ifade eder?

- A) Mahşer B) Ahiret
C) Kıyamet D) Berzah

6. Ramazan ayını önemli yapan husus aşağıdakilerden hangisidir?

- A) Fakirlere zekât verilmesi
B) Sonunda bayram yapılması
C) İhtiyaç sahiplerinin sevindirilmesi
D) Kur'an-ı Kerim'in inmeye başlaması

7. Bir kişiye orucun farz olması için aşağıdaki şartlardan hangisi aranmaz?

- A) Akıllı olmak
B) Zengin olmak
C) Müslüman olmak
D) Ergenlik çağına girmiş olmak

8. Ramazan ayında, sürekli sağlık sorunu ve yaşlılık gibi nedenlerle orucunu tutamayanların, tutmadıkları orucun karşılığı olarak verdikleri sadakaya ne ad verilir?

- A) Fitre B) Zekat C) Fidyeye D) Bağış

9. Aşağıdaki namazlardan hangisi sadece Ramazan ayında kılınır?

- A) Vitir B) Teravih
C) Teheccüt D) Kuşluk

2. OTURUM

10. İmsak kendini tutmak demektir. İmsak vaktinin girmesiyle, yeme ve içme gibi oruç yasakları başlamış olur. İmsak, yatsı namazının vaktinin sona erip sabah namazı vaktinin girmesiyle başlar. Bu andan itibaren iftar vaktine kadar oruçlu kimse Allah'ın emrini yerine getirir.

Bu parçada aşağıdaki bilgilerden hangisini bulamayız?

- A) İmsak vakti girince oruç yasakları başlar.
- B) İmsak vakti sabah namazının vaktinin girmesiyle başlar.
- C) İmsak, kendine hakim olup, yeme-içmeden ve kötülüklerden uzak durmayı ifade eder.
- D) İmsak vakti başlamadan önce oruca niyet etmek daha güzeldir.

11. Aşağıdakilerden hangisi Hz. Muhammed'in insani yönüyle ilgilidir?

- A) Allah'tan vahiy alması
- B) Kur'an-ı Kerim'i açıklaması
- C) İslam'ı insanlara tebliğ etmesi
- D) Rızkını kazanmak için çalışması

12. Hz. Muhammed'i diğer insanlardan ayıran en önemli özellik aşağıdakilerden hangisidir?

- A) Hoşgörülü olması
- B) Sabırlı olması
- C) Vahiy alması
- D) Merhametli davranması

13. Aşağıdakilerden hangisi İslam'ın tasavvufi bir yorumudur?

- A) Caferilik
- B) Malikilik
- C) Yesevilik
- D) Eşarilik

14. Alevilik - Bektaşilik kültüründe toplanmak, bir araya gelmek ve bütünleşmek anlamına gelen kavram aşağıdakilerden hangisidir?

- A) Cem
- B) Deyiş
- C) Düvaz
- D) Gülbenk

15. Mevlana'nın düşünceleri etrafında oluşan tasavvufi yorum aşağıdakilerden hangisidir?

- A) Kadirilik
- B) Nakşibendilik
- C) Bektaşilik
- D) Mevlevilik

16. Allah'ın hoşnutluğunu kazanmak amacıyla başkalarına maddi yardımda bulunmak aşağıdaki kavramlardan hangisiyle ifade edilir?

- A) Tefekkür
- B) İnfak
- C) Gıpta
- D) Tevazu

17. Sahip olunan imkanların gereksiz şekilde harcanmasına denir.

Boş yere aşağıdakilerden hangisi gelmelidir?

- A) Tutumluluk
- B) Cimrilik
- C) Cömertlik
- D) Savurganlık

18.



Yukarıdaki tablo kültürümüzdeki hangi sanata örnektir?

- A) Hat
- B) Mimari
- C) Ebru
- D) Edebiyat

19. Aşağıdaki ifadelerden hangisi dilimizdeki dini motiflere örnek değildir?

- A) Hayırlı yolculuklar!
- B) Şansın bol olsun!
- C) Elhamdulillah! İyiyim
- D) Mekanı cennet olsun!

20. Hz. Muhammed'in huzuruna çıkarılan bir şahıs korkudan titremeye başladı. Bunu gören Allah Rasulu: "Sakin ol, ben kral değilim, Kureyş'ten kuru et yiyen bir kadının oğlum." dedi.

Bu olay Peygamber efendimizin hangi yönünü ön plana çıkarmaktadır?

- A) Cesaretini
- B) Cömertliğini
- C) Adaletini
- D) Alçak gönüllüğünü

2. OTURUM

(801) TÜRKÇE – 8

1. Aşağıdakilerin hangisinde eş anlamlı sözcükler birlikte verilmemiştir?

- A) Kuru - yaş B) Duru - berrak
C) Sözcük - kelime D) Çeşit - tür

2. Aşağıdaki cümlelerin hangisinde “yüz” sözcüğü mecaz anlamıyla kullanılmıştır?

- A) Kitabın ön yüzündeki resmi çok beğendim.
B) Elini, yüzünü yıkadıktan sonra kahvaltıya oturdu.
C) Adamda yüz olsaydı söylediklerimizi ciddiye alırdı.
D) Kadın, yüzündeki gülümsemeyi gizleyemedi.

3. “Saf” sözcüğü aşağıdakilerin hangisinde “dizi, sıra” anlamında kullanılmıştır?

- A) Bu kadar saf ve berrak bir su görmedim.
B) Senin bu kadar çocukça saf olduğunu bilmezdim.
C) Açık sözlü, saf bir kadıncağızdır.
D) Bütün askerler saf oluşturup selama durdu.

4. Aşağıdaki cümlelerin hangisinde “uzun süren bir muhabbette bulunmak, çok konuşmak” anlamı taşıyan bir deyim vardır?

- A) Lafı fazla uzatmadan cevap verdim.
B) Birden lafa karışıp düşüncesini söyledi.
C) Ben odaya girince aniden lafı değiştirdi.
D) Kapının önünde yine lafa daldı.

5. Aşağıdaki cümlelerin hangisinde sebep-sonuç ilişkisi vardır?

- A) Ona, bildiği her şeyi öğretmiş.
B) Mutlu olduğu için etrafına neşe saçıyordu.
C) Eninde sonunda her sorunun çözülebileceğine inanıyorum.
D) Kendinize başkalarının gözüyle bakmaya çalışın.

6. Aşağıdaki cümlelerin hangisinde kişileştirme yapılmıştır?

- A) Bülbüllerin sevgisi, gülleri çok duygulandırmıştı.
B) Bu sabah konağa iki yabancı girdi.
C) Ağaçların arasında dolaşırken sohbet ediyorlardı.
D) Bahçeyi el birliğiyle iyice temizlediler.

7. (1) Hücrelerimizin çekirdeğinde çok değerli bir hazine taşıyoruz. (2) Tam 46 kromozom. (3) Kromozom, DNA içeren, kıvrık çubuk biçimindeki kalıtsal yapıdır. (4) Kromozomlar, canlılarda bazı özelliklerin bireyden bireye aktarılmasını sağlar.

Bu parçadaki numaralandırılmış cümlelerden hangisi öznel bir yargıdır?

- A) 1 B) 2 C) 3 D) 4

8. Uyandım baktım ki bir sabah,
Güneş vurmuş içime;
Kuşlara, yapraklara dönmüşüm;
Pır pır eder durur, bahar rüzgârında.

Bu şiirin ana duygusu aşağıdakilerden hangisidir?

- A) Bayrak sevgisi B) Bahar sevinci
C) Merak D) Cesaret

9. Öğretici bir amacı bulunan şiir türüne ne ad verilir?

- A) Pastoral B) Epik
C) Didaktik D) Lirik

10. Bir dileği bildirmek için kurum ve kuruluşlara yazılan, imzamızın ve adresimizin yer aldığı yazılara ne ad verilir?

- A) Telgraf B) Dilekçe
C) Mektup D) Davetiye

11. Bir kimsenin kendi yaşamını anlattığı yazılara ne ad verilir?

- A) Biyografi B) Otobiyografi
C) Tiyatro D) Roman

2. OTURUM

12. Karşıdaki kişinin bir konu üzerinde duygu, düşünce ve davranışını etkileyip değiştirmek, istenilen şekle yönlendirmek amacıyla kullanılan anlatım türü aşağıdakilerden hangisidir?

- A) Hikâye edici anlatım
- B) Açıklayıcı anlatım
- C) Tasvirî (betimleyici) anlatım
- D) Tartışmacı anlatım

13. Aşağıdakilerin hangisinde zaman kayması vardır?

- A) Yarın sabah size kahvaltıya geliyoruz.
- B) Her cumartesi dedesine gider.
- C) Yaptığı resimleri bana dün gösterdi.
- D) Gömleklerimi az sonra dolaba kaldıracam.

14. Aşağıdaki altı çizili sözcüklerin hangisinde "tezlik" anlamı vardır?

- A) Bu problemi çözebilirim.
- B) Sizi de işinizden alıkoymadım.
- C) Dilekçeyi bilgisayarda yazıverdi.
- D) Arabadan inerken düşeyazdım.

15. Aşağıdaki fiillerden hangisi geçişsiz fiildir?

- A) Yaptı
- B) Sordu
- C) Getirdim
- D) Gittim

16. "Kardeşim anlattıklarımı sessizce dinliyordu." cümlesinin öznesi aşağıdakilerden hangisidir?

- A) Kardeşim
- B) Anlattıklarımı
- C) Sessizce
- D) Dinliyordu

17. Aşağıdaki altı çizili sözcüklerden hangisi zarf-fiildir?

- A) Güler yüz, tatlı dil gerisi önemli değil.
- B) Konuşurken seni dinleyemem.
- C) Okuduğu kitapları arkadaşına verdi.
- D) Dün unutulmayacak bir maç seyrettik.

18. "Her sabah yayan yürüyerek okula gider." Bu cümledeki anlatım bozukluğunu gidermek için aşağıdakilerden hangisi yapılmalıdır?

- A) "Okula" sözcüğü cümleden çıkartılmalıdır.
- B) "Yayan" ile "yürüyerek" sözcükleri birbiriyle yer değiştirmelidir.
- C) "Okula" sözcüğü "yürüyerek" sözcüğünün önüne getirilmelidir.
- D) "Yayan" sözcüğü cümleden çıkartılmalıdır.

19. Aşağıdaki altı çizili kelimelerin hangisinde ünsüz yumuşaması vardır?

- A) Omzunda bir ağrı varmış.
- B) Sözlerime kulak vermelisin oğlum.
- C) Meraklılar çocuğun etrafını sardılar.
- D) Karnım tok, yemek yemeyeceğim.

20. Hepimiz selam eder() iyi haberlerini bekleriz()

Bu cümlede yay ayrıla belirtilen yerlere sırasıyla hangi noktalama işaretleri getirilmelidir?

- A) (,) (.)
- B) (;) (?)
- C) (...) (.)
- D) (!) (...)

(802) MATEMATİK – 8

1. Aşağıdakilerden hangisi negatif bir sayıdır?

- A) -3^2
- B) $(-3)^{-4}$
- C) 3^{-2}
- D) $-(-3)^5$

2. Aşağıdakilerden hangisi $\sqrt{216}$ sayısının $a\sqrt{b}$ biçiminde gösterimidir?

- A) $8\sqrt{3}$
- B) $6\sqrt{6}$
- C) $72\sqrt{3}$
- D) $108\sqrt{2}$

3. $\sqrt{5}$ irrasyonel sayısı aşağıdakilerden hangisi ile çarpılırsa sonuç bir doğal sayı olur?

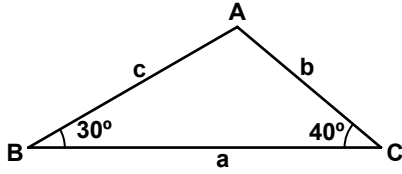
- A) $\sqrt{3}$
- B) $\sqrt{10}$
- C) $\sqrt{20}$
- D) $5\sqrt{2}$

4. Aşağıdakilerden hangisi irrasyonel bir sayıdır?

- A) $\sqrt{12}$
- B) $\sqrt{16}$
- C) $\sqrt{64}$
- D) $\sqrt{121}$

2. OTURUM

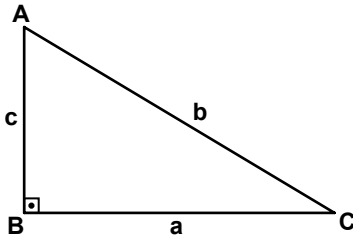
5.



Şekilde verilene göre, ABC üçgeninin kenar uzunluklarının sıralanışı, aşağıdakilerden hangisinde doğru verilmiştir?

- A) $a < b < c$ B) $b < a < c$
C) $c < b < a$ D) $b < c < a$

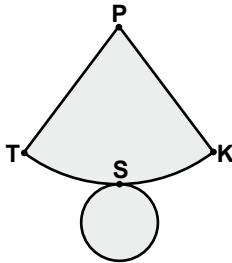
6.



Verilen üçgende $m(\widehat{B}) = 90^\circ$ dir. Şekle göre aşağıdaki ifadelerden hangisi doğrudur?

- A) $\tan A = \frac{a}{b}$ B) $\sin C = \frac{a}{c}$
C) $\cos C = \frac{c}{b}$ D) $\cot A = \frac{c}{a}$

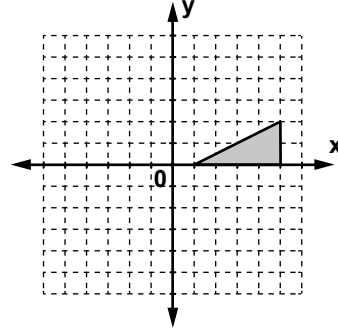
7.



Yukarıda bir koninin açılımı verilmiştir. Aşağıdaki noktalardan hangisi bu koninin taban yüzeyi üzerinde bulunmaz?

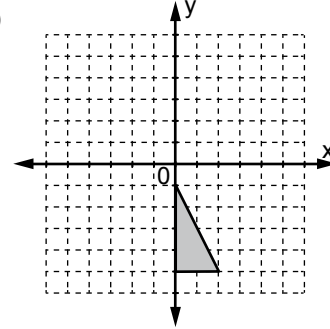
- A) S B) P C) K D) T

8.

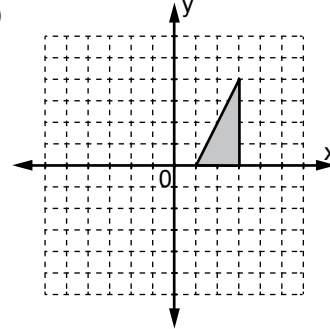


Koordinat düzlemindeki üçgensel bölge saat yönünde orijin etrafında 90° döndürüldüğünde aşağıdakilerden hangisi elde edilir?

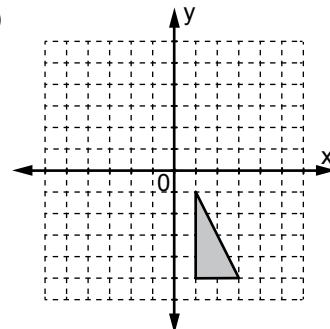
A)



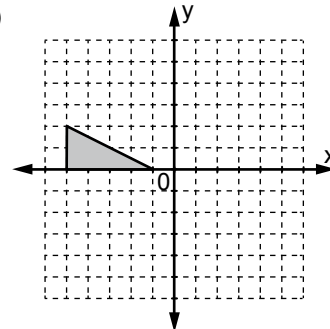
B)



C)

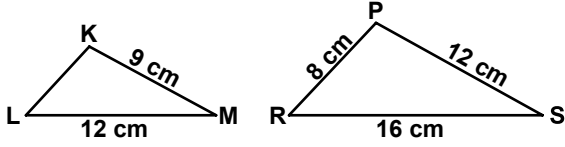


D)



2. OTURUM

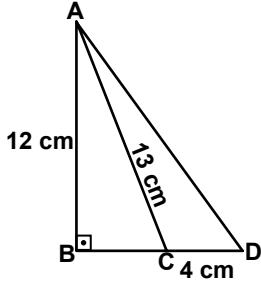
9.



Şekilde $\widehat{M} \cong \widehat{S}$ tir. Verilen uzunluklara göre, $|KL|$ kaç santimetredir?

- A) 8 B) 6 C) 4 D) 3

10.



Şekilde $[AB] \perp [BD]$ 'tir. $|AB| = 12$ cm, $|AC| = 13$ cm ve $|CD| = 4$ cm olduğuna göre, $|AD|$ kaç santimetredir?

- A) 10 B) 14 C) 15 D) 17

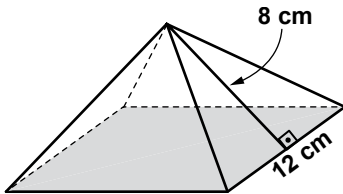
11. Taban alanı 75 cm^2 yüksekliği 8 cm olan koninin hacmi kaç santimetreküptür?

- A) 150 B) 175 C) 200 D) 300

12. Yarıçap uzunluğu 2 cm ve yüksekliği 10 cm olan silindir biçimindeki bir ilaç şişesi yarısına kadar doludur. Bu ilaç şişesinde daha kaç santimetreküp boş yer vardır? (π yerine 3 alınız.)

- A) 48 B) 60 C) 90 D) 108

13.



Yukarıdaki kare dik piramidin taban ayrıntının uzunluğu 12 cm, yan yüz yüksekliği 8 cm dir. Bu piramidin yanal yüzeyinin alanı kaç santimetrekaredir?

- A) 96 B) 156 C) 192 D) 384

14. $\frac{P(8,5)}{C(8,5)}$ işleminin sonucu aşağıdakilerden hangisidir?

- A) 120 B) 56 C) 40 D) 24

15. Bir torbaya değişik renklerde 6 misket konuluyor. Bu torbadan, 2 misket kaç farklı şekilde seçilebilir?

- A) 4 B) 8 C) 12 D) 15

16. 5, 9, 13, 17, 21, ...

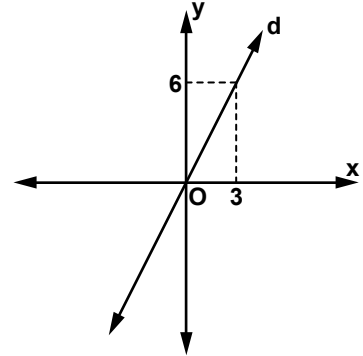
Yukarıda verilen aritmetik dizinin ortak farkı kaçtır?

- A) 3 B) 4 C) 5 D) 7

17. $25x^2 - 4y^2$ ifadesinin çarpanlarından biri aşağıdakilerden hangisidir?

- A) $25x - 4y$ B) $5x - 4y$
C) $4x - 5y$ D) $5x + 2y$

18.



Şekildeki d doğrusunun eğimi aşağıdakilerden hangisidir?

- A) -2 B) 0 C) 2 D) 3

19. $\frac{x}{2} - \frac{2x}{6} = 12$ denklemini sağlayan x değeri kaçtır?

- A) 12 B) 18 C) 48 D) 72

20. $2x - y > 5$ doğrusal eşitsizliğini aşağıdaki noktalardan hangisi sağlar?

- A) (5, 4) B) (1, 4) C) (-3, 1) D) (-1, 11)

2. OTURUM

(803) FEN VE TEKNOLOJİ – 8

1. Ahmet, ağırlığını dinamometre ile havada 5 N ölçtüğü bir taş parçasını tamamen suya daldırarak ölçüyor. Dinamometre güvenilir ölçüm yaptığına göre, dinamometrenin ölçtüğü değer kaç newton olabilir?

A) 4,5 B) 5 C) 5,5 D) 6

2. Tabloda K ve L maddelerinin öz kütleleri verilmiştir.

Madde	Öz kütle (g/cm ³)
K	0,6
L	1,2

Bu iki madde öz kütlesi 1g/cm³ olan suyun içine atıldığında batma, yüzer ve askıda kalma durumları ile ilgili aşağıdakilerden hangisi doğru olur?

K	L
A) Batar	Yüzer
B) Askıda kalır	Yüzer
C) Yüzer	Batar
D) Yüzer	Askıda kalır

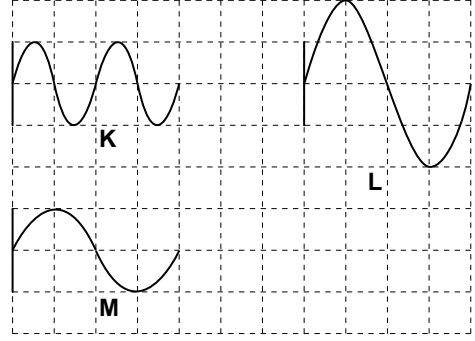
3. Aşağıdaki tabloda çeşitli ses kaynakları numaralandırılmış biçimde verilmiştir.

① Şimşek	② Rüzgar
③ Kapı zili	④ Davul
⑤ Konuşan insan	

Buna göre, hangileri doğal ses kaynağıdır?

A) 1, 2, 4 B) 1, 2, 5
C) 1, 3, 5 D) 3, 4, 5

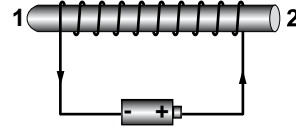
4. K, L ve M canlılarının çıkardıkları seslerin birim kareler üzerinde dalga yöntemiyle gösterimi şeklindeki gibidir.



Buna göre, canlıların seslerinin inceden kalına doğru sıralanışı aşağıdakilerin hangisinde doğru verilmiştir?

A) $K > L = M$ B) $L = M > K$
C) $K > L > M$ D) $M > L > K$

5. İletkenin üstüne sarılan tel, bir pilin uçlarına şekildeki gibi bağlanarak üzerinden akım geçi sağlanıyor.



Buna göre, oluşan elektromıknatısın 1 ve 2 ile gösterilen kutupları aşağıdakilerin hangisinde doğru verilmiştir?

	1	2
A)	N	S
B)	S	N
C)	N	N
D)	S	S

6. 250 W'lık bir televizyon günde 3 saat çalıştırılırsa, ayda kaç kWh elektrik enerjisi harcar?

A) 22500 B) 2250
C) 225 D) 22,5

2. OTURUM

7. "Dünyamızın oluşumundan beri ve halen devam etmekte olan Dünya üzerindeki şekil değişikliği farklı etmenler etkisiyle gerçekleşir."

Buna göre, aşağıdakilerden hangisi diğerlerine göre bir yönüyle farklı bir etmendir?

- A) Depremlerin etkisi B) Levha hareketleri
C) Havanın etkisi D) Volkanların etkisi

8. Aşağıdaki rüzgarlardan hangisi can ve mal kaybına neden olabilecek rüzgar çeşitidir?

- A) Yel B) Latif
C) Meltem D) Tayfun

9. Bir elemente ait bazı özellikler verilmiştir.

- Parlak görünümüdür.
- Elektron vermeye yatkındır.
- Elektrik ve ısıyı iyi iletir.

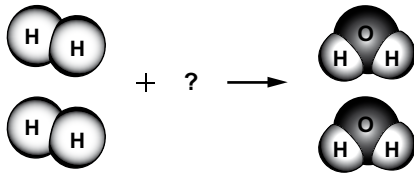
Buna göre, bu madde hangi element sınıfında yer alır?

- A) Metaller B) Ametaller
C) Yarı metaller D) Soy gazlar

10. Li^+ iyonu aşağıda verilen taneciklerden hangisi ile iyonik bağ oluşturur?

- A) Na^+ B) He C) F^- D) Mg^{2+}

11.



Yukarıdaki kimyasal tepkime denklemini denkleştirildiğinde "?" yerine aşağıdaki moleküllerden hangisi gelmelidir?

- A) B)
C) D)

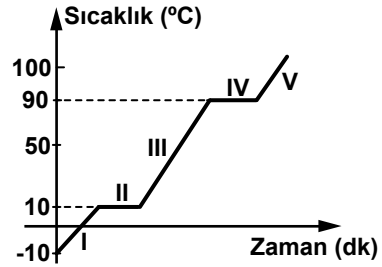
12. Asit yağmurları aşağıdakilerden hangisine doğrudan sebep olur?

- A) Suyun sertliğinin artmasına
B) Tarihi eserlerin zarar görmesine
C) Bitki örtüsünün daha iyi gelişmesine
D) Tarım arazilerinde erozyon oluşmasına

13. Bir demir parçasının üzerine çekiç ile sürekli vurulması olayında gerçekleşen enerji dönüşümü hangisidir?

- A) Elektrik enerjisi, hareket enerjisine
B) Mekanik enerji, elektrik enerjisine
C) Hareket enerjisi, ısıya
D) Isı, ışık enerjisine

14. Sabit ısı veren bir kaynak ile sürekli ısıtılan saf bir maddeye ait sıcaklık-zaman grafiği verilmiştir.

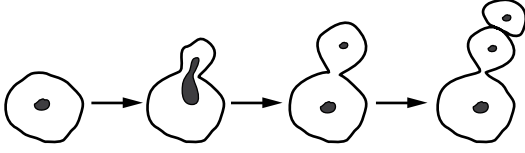


Grafiğe göre, bu madde ile ilgili aşağıdakilerden hangisi doğrudur?

- A) Maddenin donma sıcaklığı $-10^{\circ}C$ 'tur.
B) Madde I ve III. bölgelerde ısı vermiştir.
C) Maddenin kaynama sıcaklığı $100^{\circ}C$ 'tur.
D) Madde II ve IV. bölgelerde hâl değiştirmiştir.

2. OTURUM

15.



Şekilde bira mayasının üremesi verilmiştir.

Aşağıdakilerden hangisi bu üreme şekli için söylenemez?

- A) Mitoz yoluyla gerçekleşir.
- B) Yenilenme olayı olmuştur.
- C) Oluşan yavruların genetik yapısı aynıdır.
- D) Bira mayasında tomurcuklanma ile çoğalma olmuştur.

16. Buruşuk tohumlu bir bezelye bitkisi ile arı döl (homozigot) yuvarlak tohumlu başka bir bezelye bitkisi çaprazlanıyor. Oluşacak döllerin fenotip oranları aşağıdakilerin hangisinde verilmiştir? (Bezelyelerde yuvarlak tohumluluk baskın, buruşuk tohumluluk çekinik özelliktir.)

- A) $\frac{4}{4}$ yuvarlak
- B) $\frac{4}{4}$ buruşuk
- C) $\frac{1}{4}$ yuvarlak, $\frac{3}{4}$ buruşuk
- D) $\frac{2}{4}$ buruşuk, $\frac{2}{4}$ yuvarlak

17. Genetik hastalıkların tedavisinde kullanılan genetik analiz uygulamasında, aşağıdakilerden hangilerinin analizi yapılır?

I- DNA

II- Protein

III- Kromozom

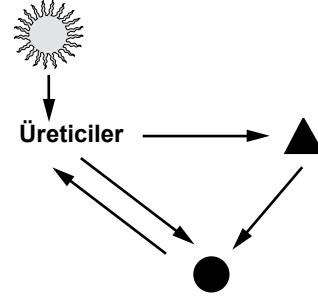
- A) Yalnız I
- B) I ve II
- C) II ve III
- D) I, II ve III

18. Canlılarda değişmeden kalan ve nesilden nesile devam eden özelliklere kalıtsal karakter denir.

Buna göre insanlarda, aşağıdakilerden hangisi kalıtsal karakterdir?

- A) Uzun saçlı olma
- B) Sürekli kilo alma
- C) Kahverengi gözlü olma
- D) Güneşlenince ten renginin koyulaşması

19.



Şekilde verilen besin zincirinde bazı canlılar ▲ ve ● ile gösterilmiştir.

Buna göre, ▲ ve ● hangisinde verilen canlılar olabilir?

- | | | |
|----|-------------------|-------------------|
| | ▲ | ● |
| A) | Alg | Geyik |
| B) | Geyik | Ayrıştırıcı canlı |
| C) | Ayrıştırıcı canlı | Kurbağa |
| D) | Çekirge | Kurbağa |

20. Üretilen çöp miktarını azaltmak ve bazı tüketim maddelerinin geri dönüşümüne katkıda bulunmak için aşağıdakilerden hangisi önerilebilir?

- A) Alışverişte bol miktarda naylon poşet kullanmak
- B) Kullanılmayan ev eşyası ve giysileri çöp bidonlarına atmak
- C) Çok fazla ambalaj kullanılarak paketlenmiş ürünleri tercih etmek
- D) Biyolojik yollarla (ayrıştırıcılarla) parçalanabilir temizlik ürünleri kullanmak

TEST BİTTİ.

CEVAPLARINIZI KONTROL EDİNİZ.

SINAV SÜRESİNCE UYULACAK KURALLAR

1. Adaylar, sınav kurallarına ve salon görevlilerinin tüm uyarılarına uymak zorundadırlar. Kurallara ve uyarılara uymayan adayların sınavları geçersiz sayılacaktır.
2. Sınav başladıktan sonra adayların salon görevlileri ve birbirleri ile konuşmaları, kalem, silgi vb. şeyleri istemeleri yasaktır.
3. Adaylar sınav süresince, sınav giriş belgesi ile birlikte kimlik belgelerinden birini (nüfus cüzdanı, pasaport veya sürücü belgesi) masalarının üzerinde bulundurmamak zorundadırlar.
4. Sınav evraklarını teslim etmeyen, soru kitapçıklarının sayfalarından bir kısmını eksik teslim edenlerin sınavları geçersiz sayılacaktır.

SALON GÖREVLİLERİNCE SINAV BAŞLAMADAN ÖNCE ADAYLARA YAPILACAK SON UYARI

- Soracağınız bir şey var mı? Varsa, şimdi sorunuz.
- Sınav başladıktan sonra sorularınıza cevap verilmeyecektir.
- Başlama zilini bekleyiniz.
- Hepinize başarılar dileriz.

(Salon başkanı başlama ve bitiş saatini tahtaya yazacaktır.)

Bu kitapçığın her hakkı saklıdır. Hangi amaçla olursa olsun, kitapçığın tamamının veya bir kısmının Millî Eğitim Bakanlığı Ölçme, Değerlendirme ve Sınav Hizmetleri Genel Müdürlüğünün yazılı izni olmadan kopya edilmesi, fotoğraflarının çekilmesi, bilgisayar ortamına alınması, herhangi bir yolla çoğaltılması, yayımlanması veya başka bir amaçla kullanılması yasaktır. Bu yasağa uymayanlar, doğabilecek cezai sorumluluğu ve kitapçığın hazırlanmasındaki mali külfeti peşinen kabullenmiş sayılır.

15 HAZİRAN 2014 TARİHİNDE YAPILAN
AÇIK ÖĞRETİM ORTAOKULU 2013-2014 ÖĞRETİM YILI 3. DÖNEM SINAVI
2. OTURUM CEVAP ANAHTARI

SOSYAL BİLGİLER – 7

1. B
2. A
3. C
4. B
5. A
6. D
7. C
8. D
9. A
10. B
11. A
12. C
13. D
14. B
15. B
16. C
17. D
18. A
19. A
20. D

ALMANCA – 7

1. A
2. D
3. C
4. B
5. C
6. D
7. A
8. B
9. C
10. A
11. C
12. A
13. D
14. B
15. B
16. C
17. D
18. A
19. B
20. D

**DİN KÜLTÜRÜ ve AHLAK
BİLGİSİ – 7**

1. A
2. B
3. A
4. C
5. B
6. D
7. B
8. C
9. B
10. D
11. D
12. C
13. C
14. A
15. D
16. B
17. D
18. A
19. B
20. D

MATEMATİK – 8

1. A
2. B
3. C
4. A
5. D
6. D
7. B
8. A
9. B
10. C
11. C
12. B
13. C
14. A
15. D
16. B
17. D
18. C
19. D
20. A

İNGİLİZCE – 7

1. A
2. B
3. A
4. C
5. B
6. D
7. C
8. A
9. D
10. B
11. C
12. A
13. C
14. D
15. A
16. B
17. A
18. D
19. B
20. C

FRANSIZCA – 7

1. B
2. A
3. D
4. B
5. D
6. C
7. B
8. A
9. C
10. A
11. C
12. A
13. D
14. B
15. D
16. B
17. D
18. C
19. C
20. B

TÜRKÇE – 8

1. A
2. C
3. D
4. D
5. B
6. A
7. A
8. B
9. C
10. B
11. B
12. D
13. A
14. C
15. D
16. A
17. B
18. D
19. C
20. A

FEN ve TEKNOLOJİ – 8

1. A
2. C
3. B
4. A
5. B
6. D
7. C
8. D
9. A
10. C
11. D
12. B
13. C
14. D
15. B
16. A
17. D
18. C
19. B
20. D

15 HAZİRAN 2014 TARİHİNDE YAPILAN
AÇIK ÖĞRETİM ORTAOKULU 2013-2014 ÖĞRETİM YILI 3. DÖNEM SINAVI
2. OTURUM CEVAP ANAHTARI

SOSYAL BİLGİLER – 5

1. C
2. B
3. C
4. D
5. B
6. A
7. D
8. C
9. B
10. A
11. B
12. D
13. A
14. C
15. A
16. B
17. C
18. A
19. D
20. C

ALMANCA – 5

1. C
2. B
3. A
4. D
5. C
6. D
7. A
8. C
9. C
10. A
11. B
12. B
13. C
14. B
15. D
16. A
17. D
18. D
19. B
20. A

**DİN KÜLTÜRÜ ve AHLAK
BİLGİSİ – 5**

1. B
2. A
3. D
4. C
5. B
6. D
7. C
8. C
9. A
10. B
11. B
12. A
13. C
14. B
15. A
16. D
17. A
18. C
19. D
20. A

MATEMATİK – 6

1. A
2. B
3. D
4. A
5. C
6. B
7. D
8. B
9. B
10. A
11. A
12. D
13. C
14. C
15. D
16. D
17. C
18. B
19. C
20. A

İNGİLİZCE – 5

1. C
2. D
3. B
4. D
5. A
6. C
7. D
8. B
9. D
10. A
11. B
12. C
13. A
14. C
15. D
16. C
17. A
18. B
19. D
20. A

FRANSIZCA – 5

1. B
2. D
3. A
4. B
5. C
6. B
7. C
8. D
9. D
10. B
11. A
12. D
13. B
14. C
15. A
16. B
17. C
18. D
19. A
20. A

TÜRKÇE – 6

1. C
2. C
3. B
4. B
5. D
6. A
7. B
8. D
9. A
10. D
11. C
12. B
13. A
14. D
15. A
16. B
17. A
18. C
19. A
20. C

FEN ve TEKNOLOJİ – 6

1. C
2. B
3. D
4. A
5. C
6. B
7. A
8. D
9. C
10. B
11. D
12. A
13. B
14. B
15. A
16. D
17. C
18. C
19. A
20. B